




المسألة الثامنة: (نماذج عشوائية)


عددان مجموعهما 21 ، إذا كانت نسبة العدد الأكبر إلى العدد الأصغر 4:3 فما هو العدد الأصغر؟

Label		الأكبر
Label		الأصغر
		اضغط هنا



نضع كل أيقونة في مكانها المناسب ونقوم ببناء النموذج كما في الشكل التالي:

الأكبر		اضغط هنا
الأصغر		



نضع القيم المعطاة لنا
مجموع العددين 21 والعدد الأصغر مجهول

عدد الأجزاء كاملة 7 وبالتالي فإن قيمة كل جزء تساوي $3 = 7 \div 21$
أي أن العدد الأصغر $9 = 3 \times 3$

تمت الإجابة بشكل صحيح وبالضغط على السهم الأزرق ننتقل الى سؤال جديد.