

المسألة الخامسة: (مقارنة المجموع)

لدى أحمد 8 مصاصات، ولدى محمد 6 أضعاف ما لدى أحمد. كم عدد المصاصات لدى الاثنين معاً؟

Diagram illustrating the problem setup. It shows two rows of grey bars, each preceded by a 'Label' box. To the right, there are two rounded boxes: the top one contains 'مصاصات محمد' and the bottom one contains 'مصاصات أحمد'. At the bottom, there is a red square, a blue arrow pointing right with the text 'اضغط هنا', and a green checkmark.

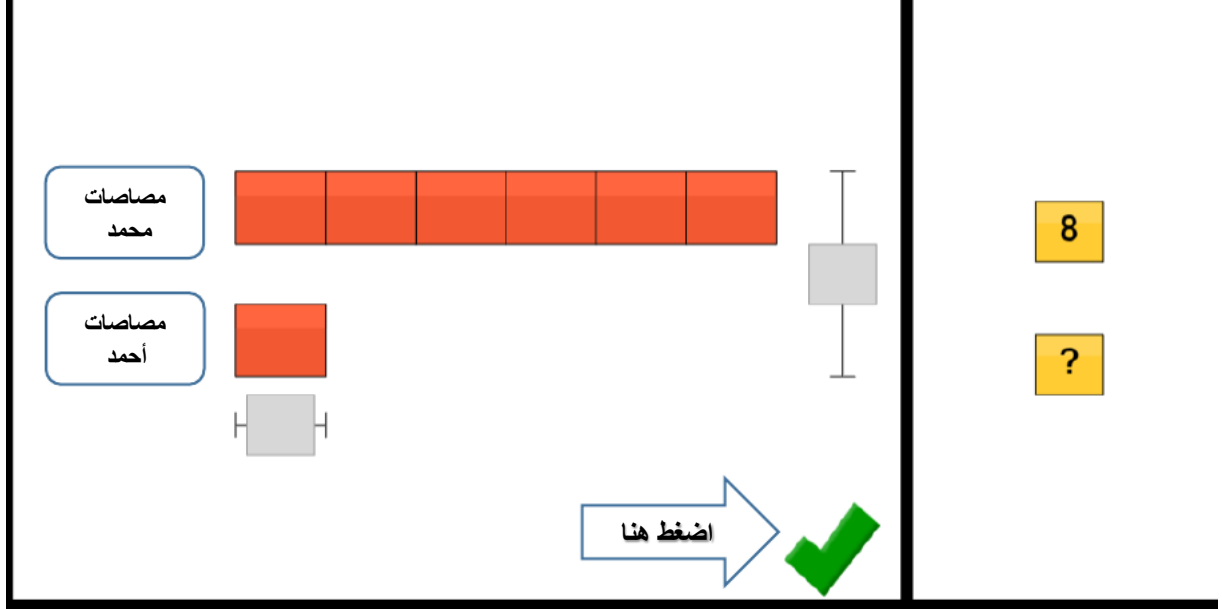
نضع كل أيقونة في المكان المخصص لها ونقوم ببناء النموذج كما في الشكل التالي:

Diagram illustrating the solution. It shows two rounded boxes: the top one contains 'مصاصات محمد' and the bottom one contains 'مصاصات أحمد'. To the right of the top box is a row of six orange squares. To the right of the bottom box is a row consisting of one orange square followed by a long grey bar. At the bottom, there is a blue arrow pointing right with the text 'اضغط هنا' and a green checkmark.

الآن نحدد القيم المعطاة:

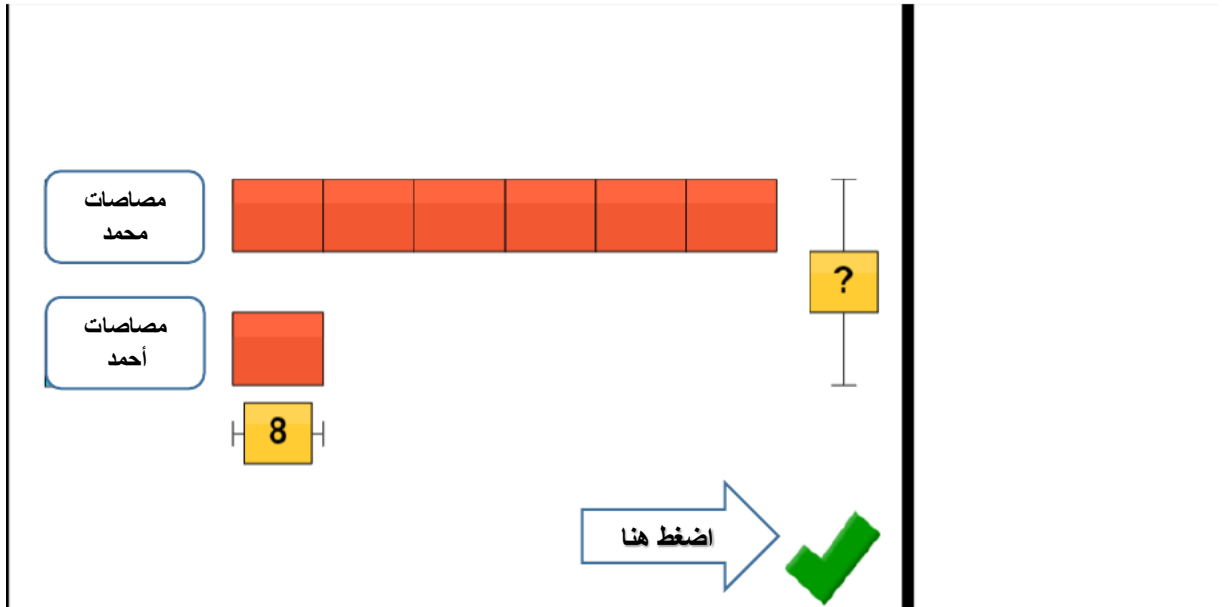
عدد المصاصات التي مع أحمد = 8 ، عدد المصاصات التي مع محمد = ؟

مجموع عدد المصاصات = ؟



عدد المصاصات التي مع محمد = $8 * 6 = 48$ مصاصة.

مجموع المصاصات = $8 + 48 = 56$



نضع الإجابة الصحيحة في الايقونة الخاصة بها:

مصاصات محمد

8 8 8 8 8 8

مصاصات أحمد

8


8

56

ANSWER: 56 lollipops

اضغط هنا

Great modeling!



بالضغط على السهم الأزرق يمكن الانتقال الى مسائل جديدة.