

المسألة الرابعة: (مقارنة بخطوة واحدة).

باع أحمد 19 قطعة من الحلوى لجمع التبرعات بالمدرسة. وباع محمد ضعف عدد قطع الحلوى التي باعها أحمد. كم عدد قطع الحلوى التي باعها محمد؟

Label		عدد قطع أحمد
Label		عدد قطع محمد
	اضغط هنا	

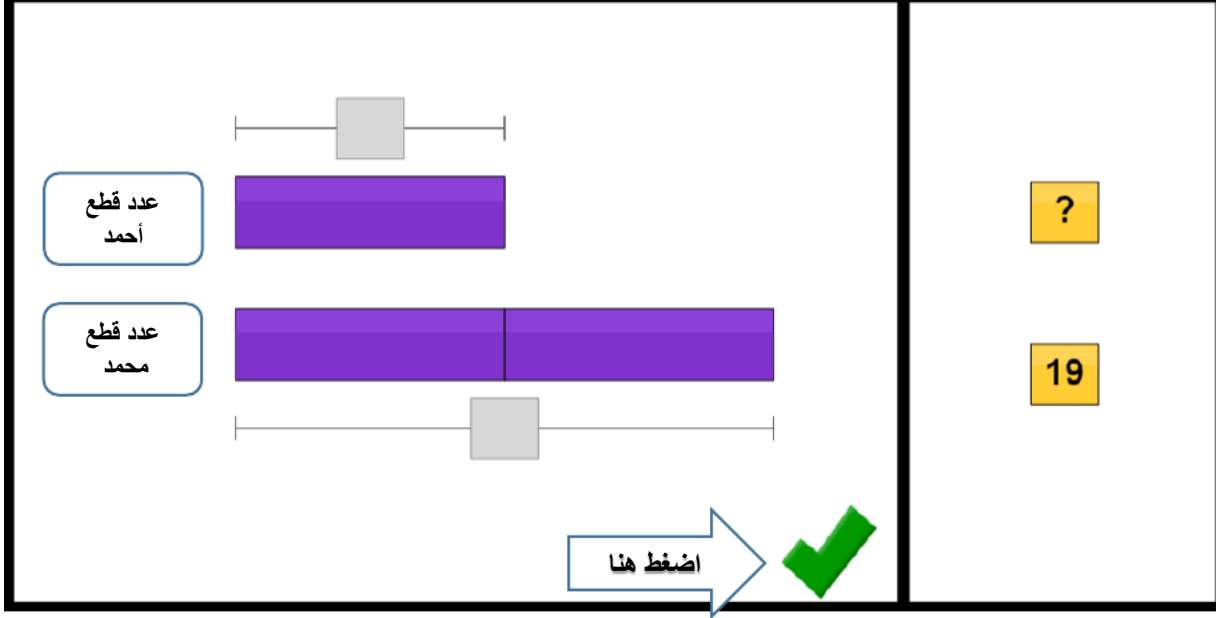
نضع كل أيقونة في المكان المناسب لها ونقوم ببناء النموذج كما في الشكل التالي:

عدد قطع أحمد	
عدد قطع محمد	
	اضغط هنا

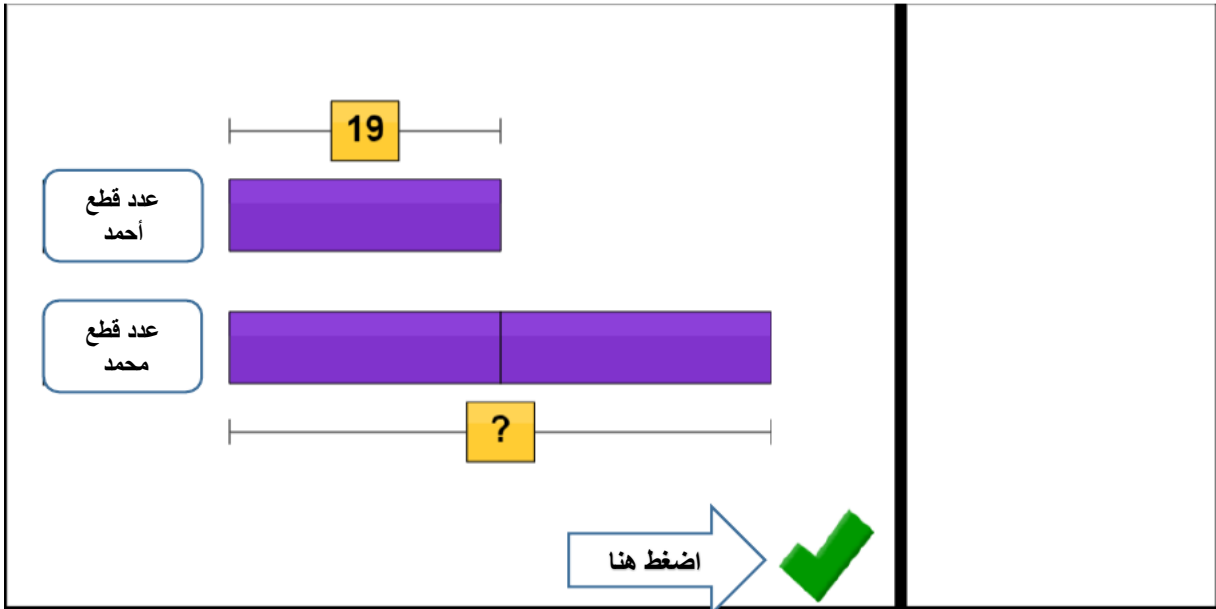
الآن نحدد القيم المعطاة:

عدد قطع أحمد = 19

عدد قطع محمد = ؟




نضع القيم المعطاة في الايقونات المناسبة:



عدد قطع محمد = عدد قطع أحمد * 2 = 19 * 2 = 38 قطعة

عدد قطع أحمد	19
عدد قطع محمد	19 19
	?

ANSWER: candy bars اضغط هنا




1	2	3
4	5	6
7	8	9
0		\$
Thinking Blocks		C
draw	erase	reset


الآن نضع الإجابة الصحيحة في الأيقونة

عدد قطع أحمد	19
عدد قطع محمد	19 19
	38

ANSWER: candy bars اضغط هنا



You solved it!



بالضغط على السهم الأزرق نحصل على مسائل جديدة.