

المسألة الثالثة: (عمليتين)

يقرأ أحمد 3 صفحات من كتاب "الخيال" كل يوم. إذا قرأ لمدة 8 أيام، يتبقى 26 صفحة من الكتاب. كم عدد الصفحات في الكتاب الذي يقرأه أحمد؟

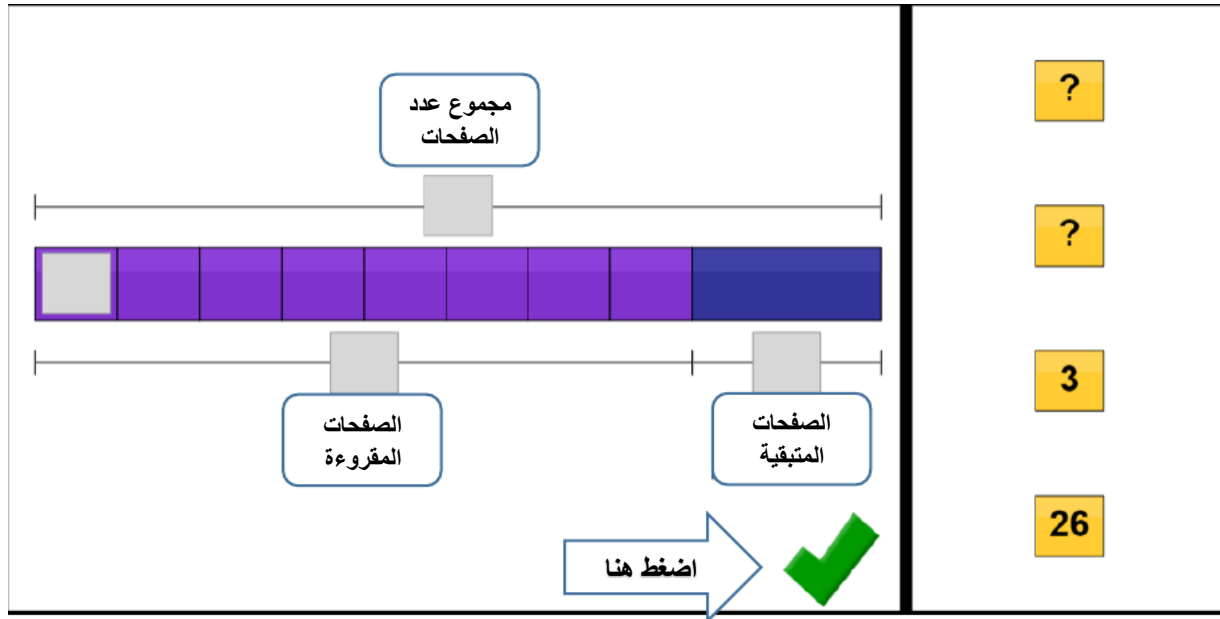
The diagram illustrates the problem-solving process. It features a horizontal bar divided into two sections. The left section is shaded grey and labeled 'Label'. The right section is also shaded grey and labeled 'Label'. Below the bar, there are two more labels: 'Label' under the left section and 'Label' under the right section. To the left of the bar, there are two colored rectangles: a purple one and a blue one. A green checkmark and an arrow pointing to the right with the text 'اضغط هنا' (Click here) are positioned below the bar. On the right side of the diagram, there are three rounded rectangular boxes containing the following text: 'الصفحات المتبقية' (Remaining pages), 'مجموع عدد الصفحات' (Total number of pages), and 'الصفحات المقرؤة' (Pages read).

نضع كل أيقونة في المكان المناسب لها ونقوم ببناء النموذج كما في الشكل التالي:

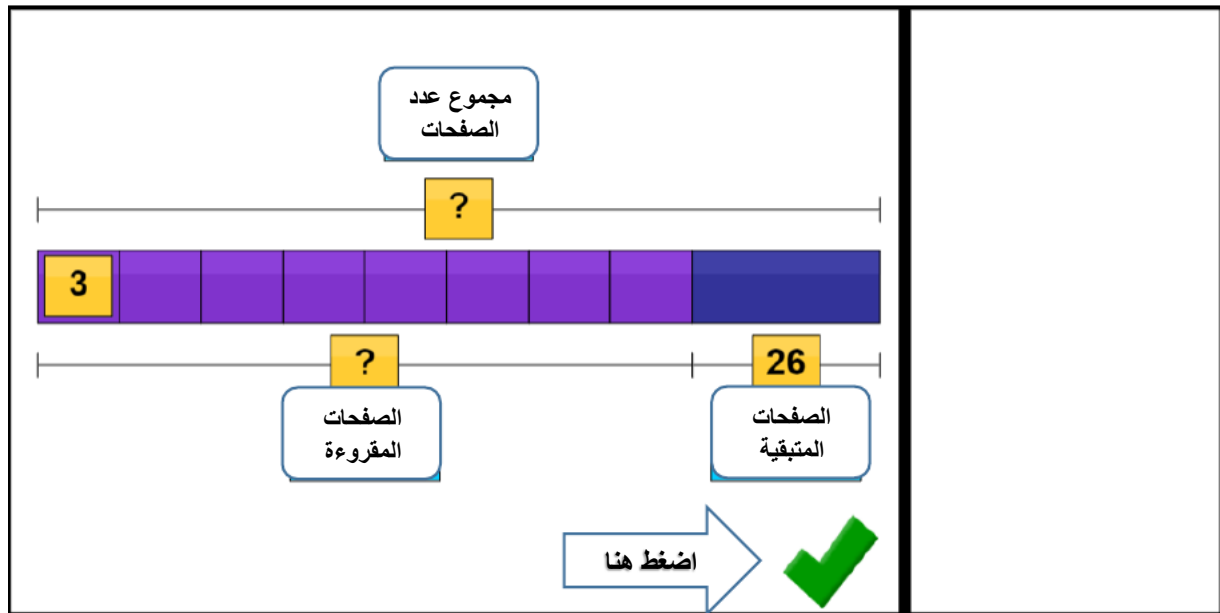
The diagram illustrates the solution process. It features a horizontal bar divided into two sections. The left section is shaded purple and labeled 'الصفحات المقرؤة' (Pages read). The right section is shaded blue and labeled 'الصفحات المتبقية' (Remaining pages). Above the bar, there is a rounded rectangular box containing the text 'مجموع عدد الصفحات' (Total number of pages). Below the bar, there are two more rounded rectangular boxes: 'الصفحات المقرؤة' (Pages read) under the left section and 'الصفحات المتبقية' (Remaining pages) under the right section. A green checkmark and an arrow pointing to the right with the text 'اضغط هنا' (Click here) are positioned below the bar.

نحدد القيم المعطاة لنا:

عدد الأيام = 8 = عدد الصفحات كل يوم = 3 المتبقي من عدد صفحات الكتاب = 26



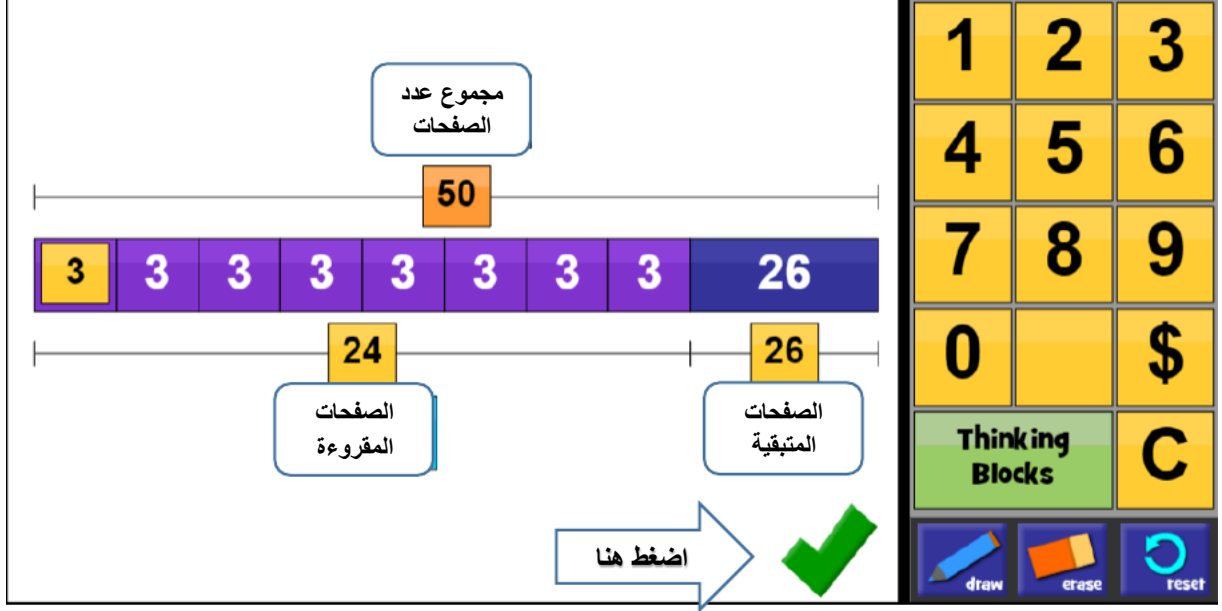
نضع القيم المعطاة في الأيقونات المخصصة لها:



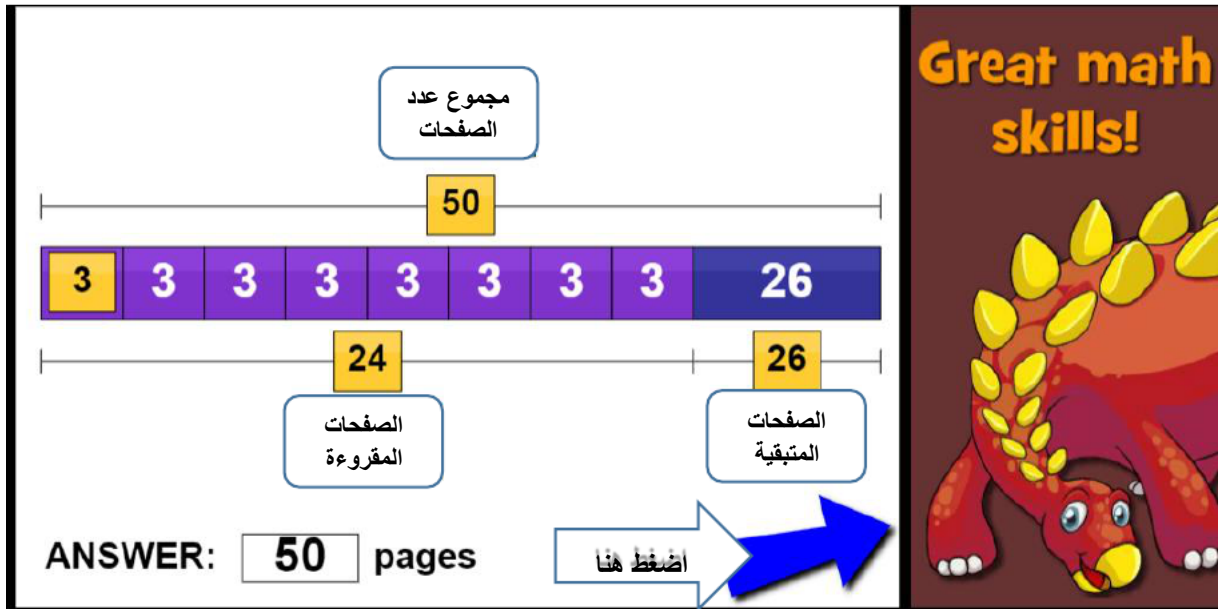
مجموع عدد الصفحات = عدد الصفحات المقرّوة في ثمانية أيام + 26

$$24 = 8 * 3 = \text{عدد الصفحات المقرّوة في ثمانية أيام}$$

إذاً مجموع عدد الصفحات = $26 + 24 = 50$ صفحة.



تمت الإجابة على السؤال بشكل صحيح:



بالضغط على السهم الأزرق يمكن الانتقال لمسائل جديدة.