

المسألة الخامسة عشر : (ثلاث كميات)

باع صالح 6 أضعاف عدد أزرار سلطان، و باع حمد ضعف عدد أزرار سلطان ، إذا باعوا جميعاً 36 زراً ، فكم عدد الأزرار التي باعها صالح؟

Label		أزرار صالح
Label		أزرار حمد
Label		أزرار سلطان

أزرار صالح

أزرار حمد

أزرار سلطان

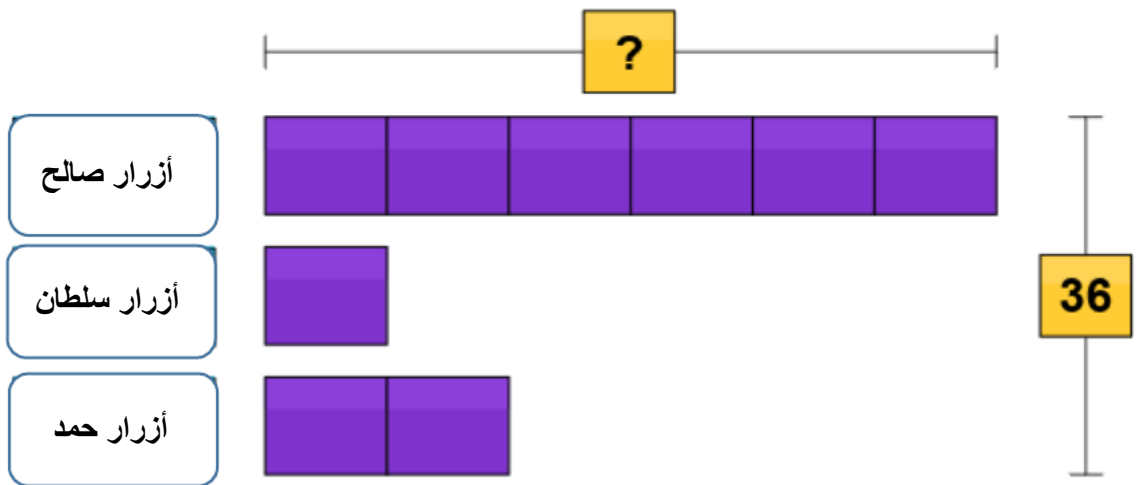
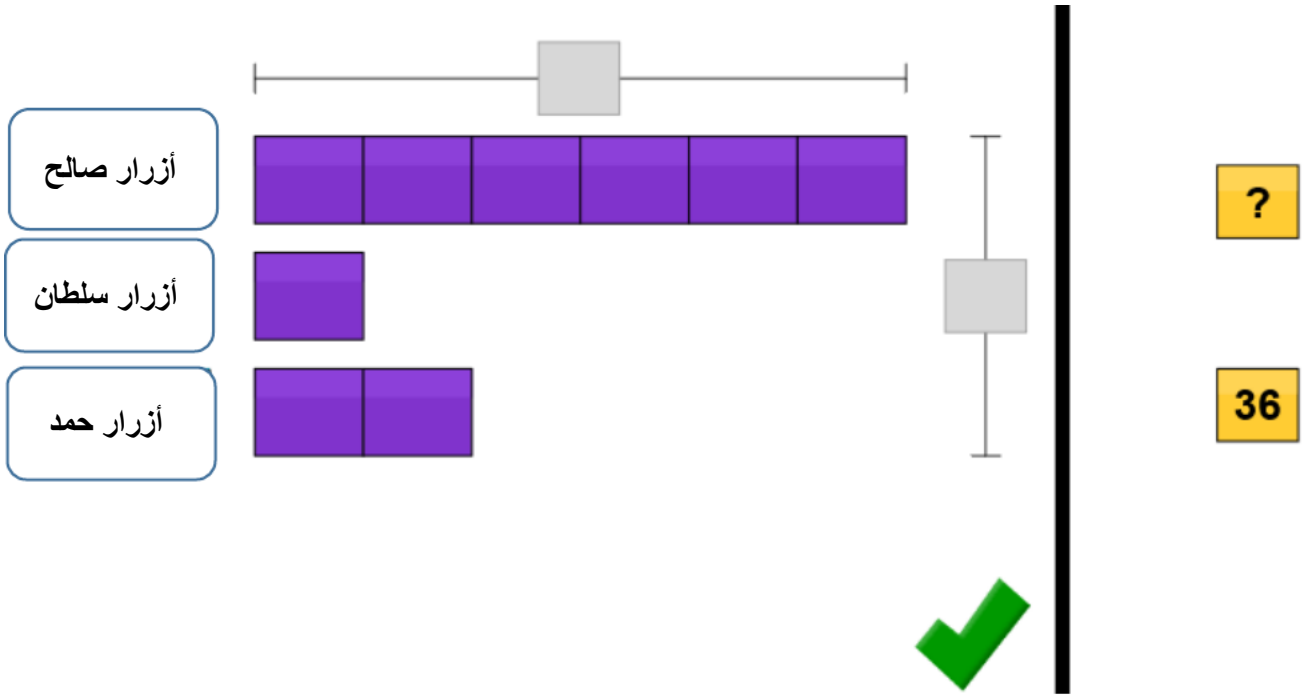
ثم اضغط هنا

نبدأ ببناء النموذج، من خلال وضع المسميات والقطع في المكان المناسب بناءً على المعطيات:

أزرار صالح	
أزرار سلطان	
أزرار حمد	

ثم اضغط هنا

وعند ظهور الأرقام؛ نضعها في المكان المناسب (حسب معطيات المسألة):



ثم اضغط هنا

✓

وعند ظهور نافذة الأرقام الجانبية، نسجل الإجابة في المكان المخصص، ثم نضغط علامة ()، وإن كانت الإجابة صحيحة فسيظهر التعزيز:

أزرار صالح

أزرار سلطان

أزرار حمد

ANSWER: buttons

1	2	3
4	5	6
7	8	9
0		\$
Thinking Blocks		C
draw	erase	reset

أزرار صالح

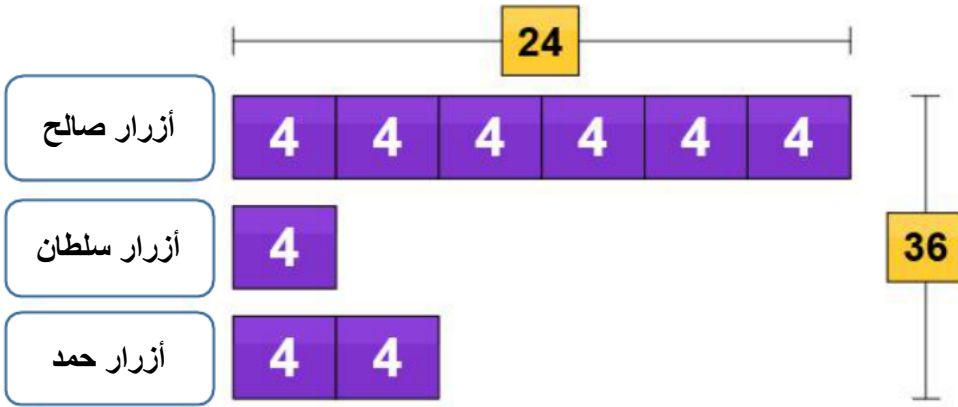
أزرار سلطان

أزرار حمد

ANSWER: buttons

1	2	3
4	5	6
7	8	9
0		\$
Thinking Blocks		C
draw	erase	reset

Awesome
work!



ANSWER: **24** buttons

