

المسألة الرابعة عشر : ( مقارنة الفرق )

لدى منال 15 كتاباً ، وهو يمثل خمسة أضعاف ما لدى يارا ، فكم كتاباً لدى منال أكثر من يارا ؟

Diagram illustrating the problem setup:

- Two rows of grey boxes representing books. The top row is labeled "Label" and the bottom row is labeled "Label".
- A vertical black line separates the two groups.
- On the right side, there are two blue rounded rectangles: the top one is labeled "كتب منال" (Books of Manal) and the bottom one is labeled "كتب يارا" (Books of Yara).
- A green checkmark is placed below the vertical line.
- A purple square is located at the bottom left.

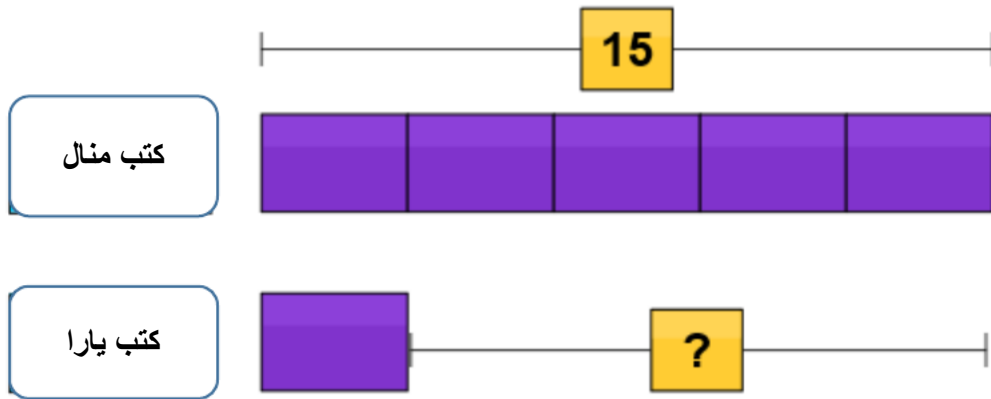
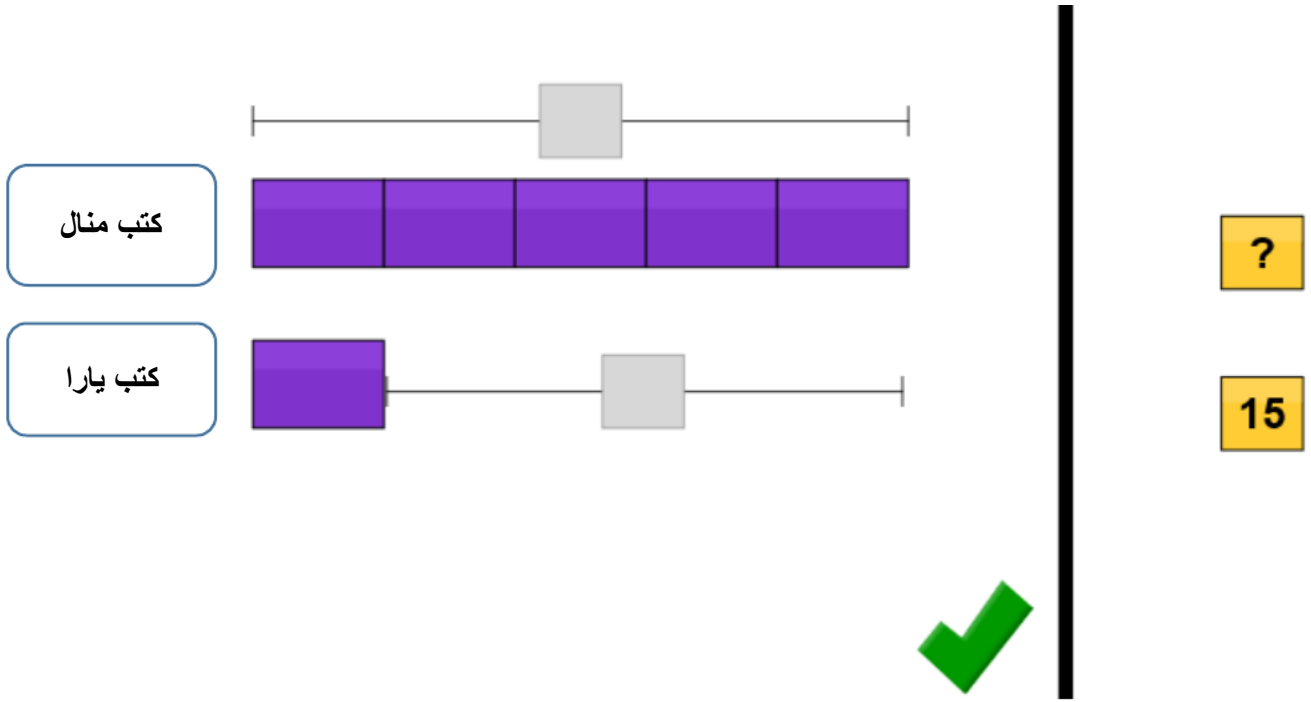
نبدأ ببناء النموذج من خلال وضع المسميات واللوحات في المكان المناسب بناءً على المعطيات:

Diagram illustrating the model building process:

- The top row is labeled "كتب منال" (Books of Manal) and contains five purple boxes.
- The bottom row is labeled "كتب يارا" (Books of Yara) and contains one purple box followed by a grey box.

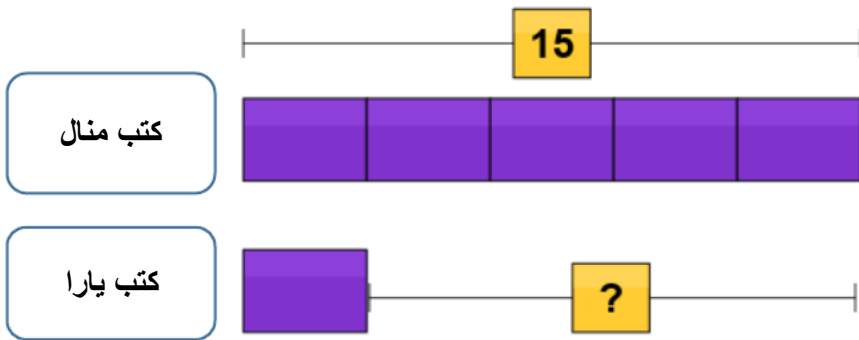
ثم اضغط هنا 

ثم تظهر الأرقام ونضعها في المكان المناسب ( حسب معطيات المسألة ):

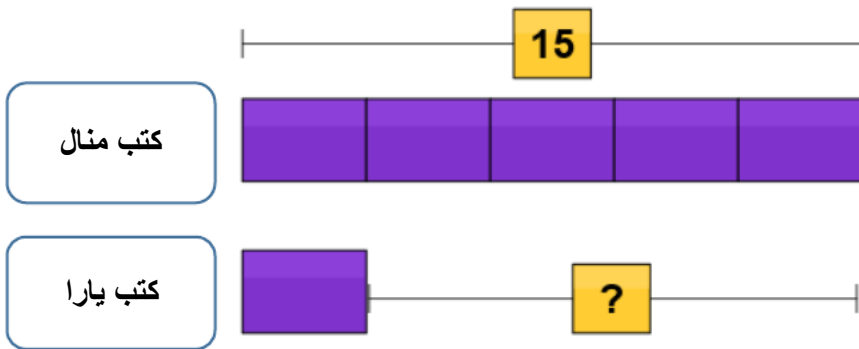
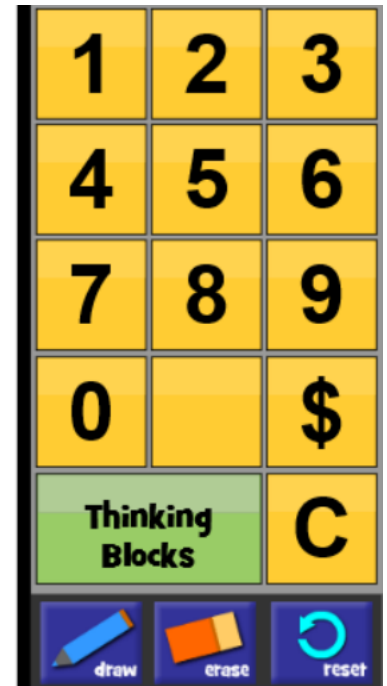


ثم اضغط هنا

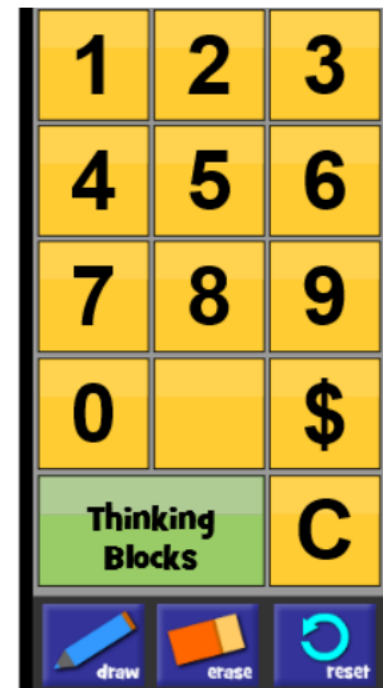
وعند ظهور نافذة الأرقام الجانبية؛ نسجل الإجابة، ثم نضغط علامة ( )، وإن كانت صحيحة فسيظهر التعزيز:



ANSWER:  tunes



ANSWER:  tunes



Awesome  
work!



كتب منال



كتب يارا



ANSWER: **12** tunes

