

المسألة الثانية عشر : (المقارنة بخطوة واحدة)

ثمن طقم العلوم 38 ريالاً . إذا كان ثمن طقم العلوم ضعف ثمن القبعة، فكم ثمن القبعة؟

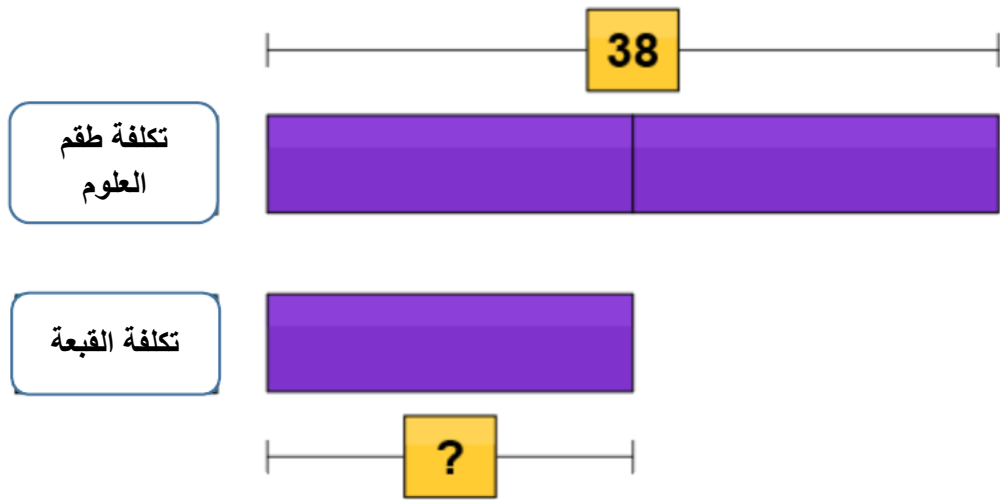
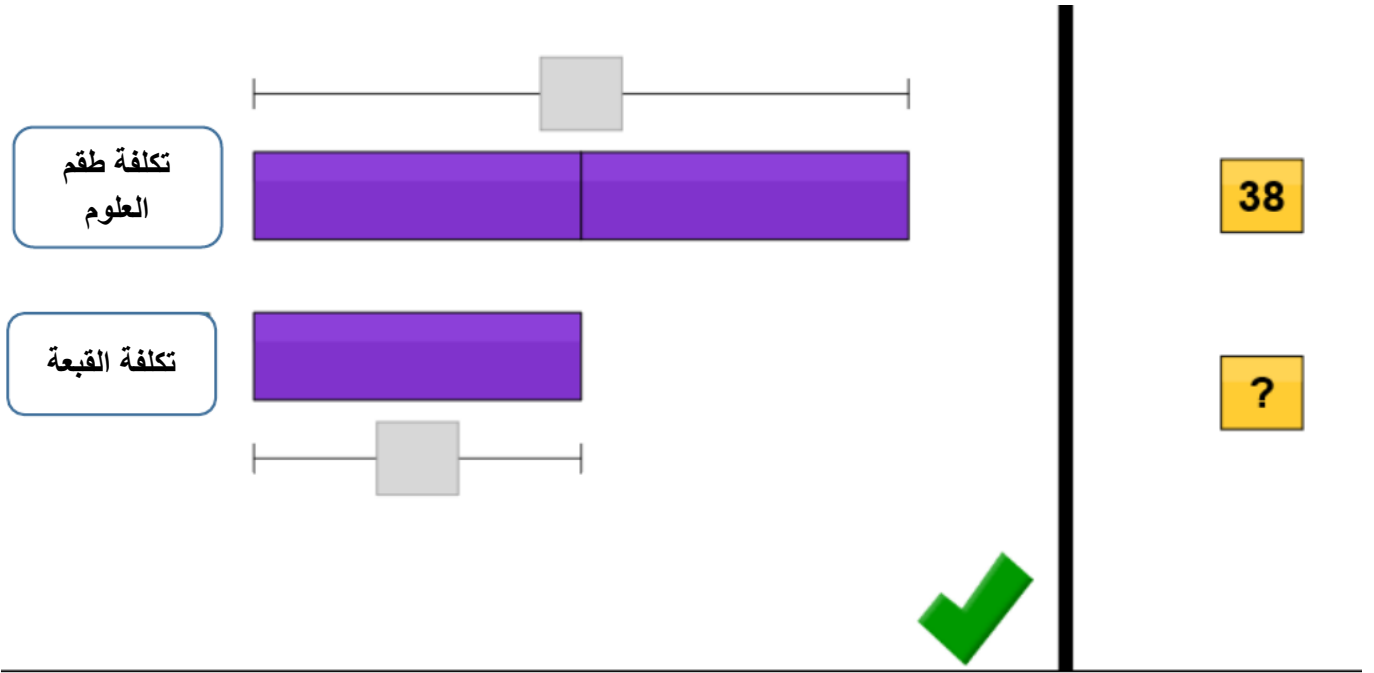
Diagram illustrating the problem setup. On the left, there are two rows of boxes. The top row has a box labeled "Label" followed by a long grey bar. The bottom row has a box labeled "Label" followed by a long grey bar. Below these is a purple bar. On the right, a vertical line separates the diagram from two boxes: "تكلفة طقم العلوم" (Cost of the science kit) and "تكلفة القبعة" (Cost of the cap). A green checkmark is placed below the vertical line.

نقوم ببناء النموذج من خلال وضع المسميات واللوحات في المكان المناسب:

Diagram illustrating the model building. On the left, there are two boxes: "تكلفة طقم العلوم" (Cost of the science kit) and "تكلفة القبعة" (Cost of the cap). To the right of the top box is a long purple bar. To the right of the bottom box is a long bar divided into a purple segment on the left and a grey segment on the right.

ثم اضغط هنا 

بعد ذلك تظهر الأرقام، فنقوم بوضعها في الأماكن المناسبة (حسب معطيات المسألة):



ثم اضغط هنا 

وبعد ظهور نافذة الأرقام، نسجل الإجابة وإن كانت صحيحة فسيظهر التعزيز:

تكلفة طقم العلوم

تكلفة القبعة

ANSWER:

38

?

1 2 3

4 5 6

7 8 9

0 \$

Thinking Blocks C

draw erase reset

تكلفة طقم العلوم

تكلفة القبعة

ANSWER:

38

?

1 2 3

4 5 6

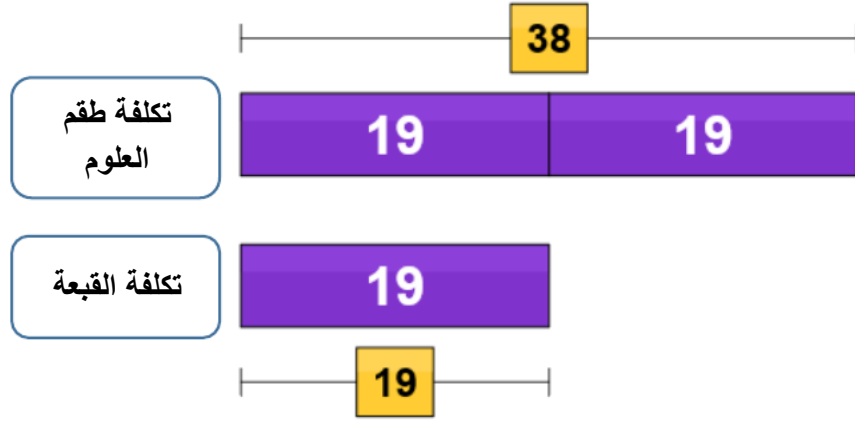
7 8 9

0 \$

Thinking Blocks C

draw erase reset

ثم اضغط هنا



ANSWER: **\$19**

