





المسألة التاسعة :

لدى أحمد عدد 18 قطعة مغناطيس، ولدى محمد 4 قطع مغناطيس، كم يقل عدد القطع التي مع محمد عن عدد القطع التي مع أحمد؟

Label		أحمد
Label		محمد
		

نضع كل أيقونة في المكان المناسب لها ونقوم ببناء النموذج:

أحمد		
محمد		
		

نضع القيم المعطاة في أماكنها:

أحمد	18
محمد	4

الفرق = عدد القطع مع أحمد - عدد القطع مع محمد

14 = 18 - 4

اضغط هنا

عدد القطع مع أحمد - عدد القطع مع محمد = الفرق

$$14 = 18 - 4$$

أحمد	18
محمد	4


الفرق = عدد القطع مع أحمد - عدد القطع مع محمد

14 = 18 - 4

ANSWER: 14 magnets

اضغط هنا

Awesome work!



تمت الإجابة على السؤال بشكل صحيح وبالضغط على السهم الأزرق ننتقل الى مسائل جديدة.