





المسألة الثامنة :



أكملت مركبة فضاء 18 رحلة فضائية، بينما أكملت المركبة الثانية 8 رحلات أقل من المركبة الأولى، فكم عدد الرحلات التي أكتمتها المركبة الثانية؟


Label		الأولى
Label		الثانية
		

نضع كل أيقونة في المكان المناسب لها ونقوم ببناء النموذج:



Bit Rate		
الأولى		
الثانية		
		


نضع القيم المعطاة:

الأولى	
الثانية	


اضغط هنا 

عدد الرحلات للثانية = الأولى - 8
 $10 = 8 - 18 =$ رحلات فضائية

الأولى	
الثانية	

ANSWER: space miss اضغط هنا 

Awesome work!



تمت الإجابة على السؤال بشكل صحيح وبالضغط على السهم الأزرق يمكن الانتقال لمسائل جديدة.