

المسألة السابعة:

جمع أحمد 4 قواقع رملية على شكل ثماني و16 قوقعة رملية على شكل موشور، ترك منها 5 قواقع في مختبر العلوم، فكم عدد القواقع التي أحضرها للمنزل؟

Label |-----|

Label |-----| Label

سؤال مخفي
كم عدد القواقع التي مع أحمد

اضغط هنا

على شكل
موشور

على شكل
ثماني

المجموع

نضع كل أيقونة في مكانها المناسب ونقوم ببناء النموذج:

المجموع |-----|

على شكل موشور |-----| على شكل ثماني

سؤال مخفي
كم عدد القواقع التي مع أحمد

اضغط هنا

الآن نضع القيم المعطاة:

المجموع

؟

على شكل
موشور

16

4

على شكل
ثمانى

سؤال مخفي
كم عدد القواقع التي مع أحمد

اضغط هنا

مجموع القواقع = الشكل الثماني + شكل الموشور

$$20 = 4 + 16 =$$

المجموع

؟

على شكل
موشور

16

4

على شكل
ثمانى

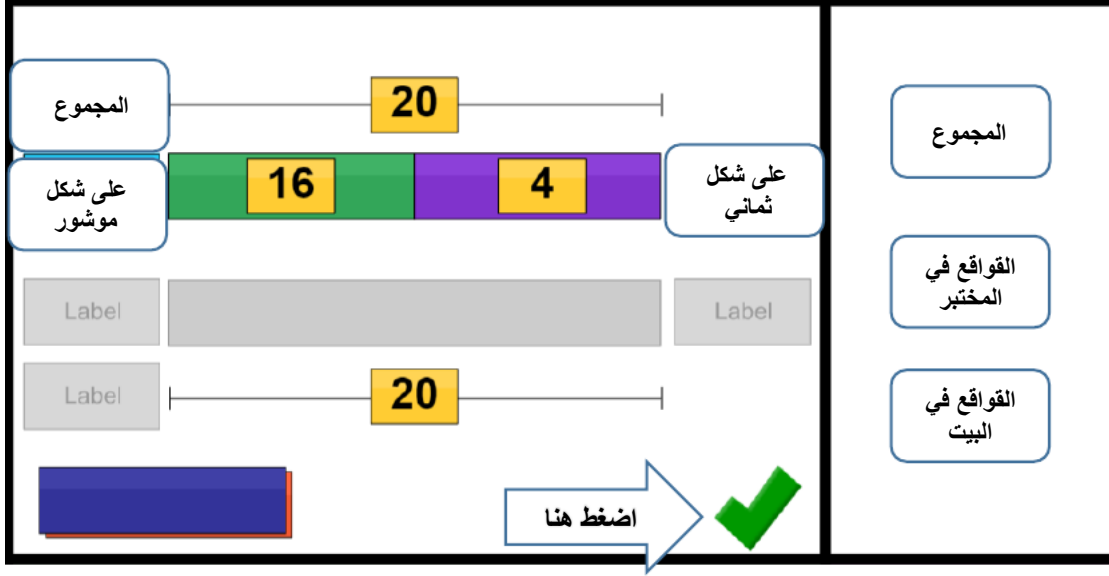
سؤال مخفي
كم عدد القواقع التي مع أحمد

ANSWER: 20 sand shells

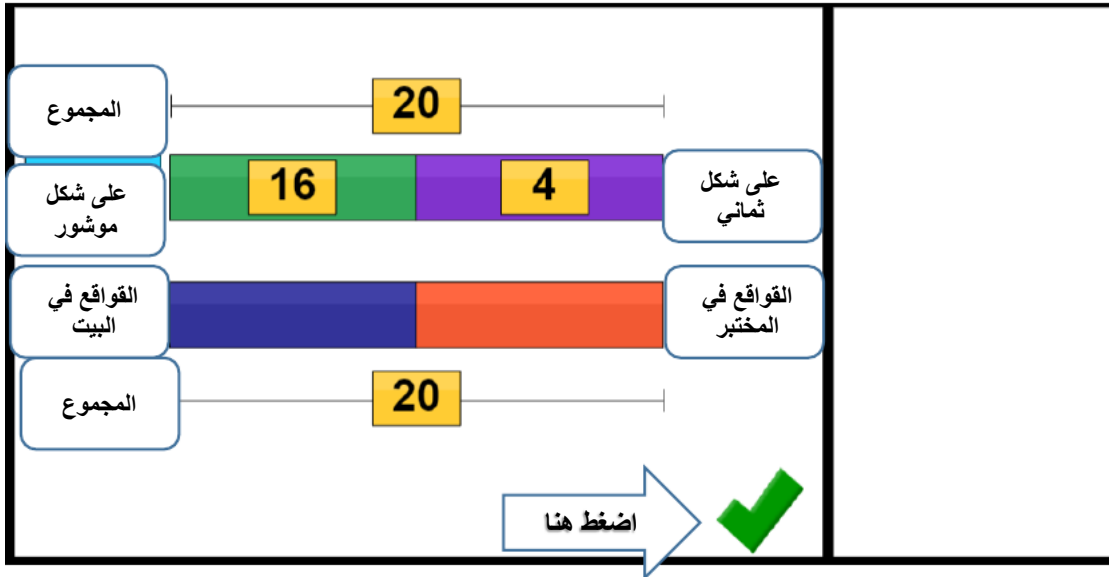
اضغط هنا

1	2	3
4	5	6
7	8	9
0		\$
Thinking Blocks		C
draw	erase	reset

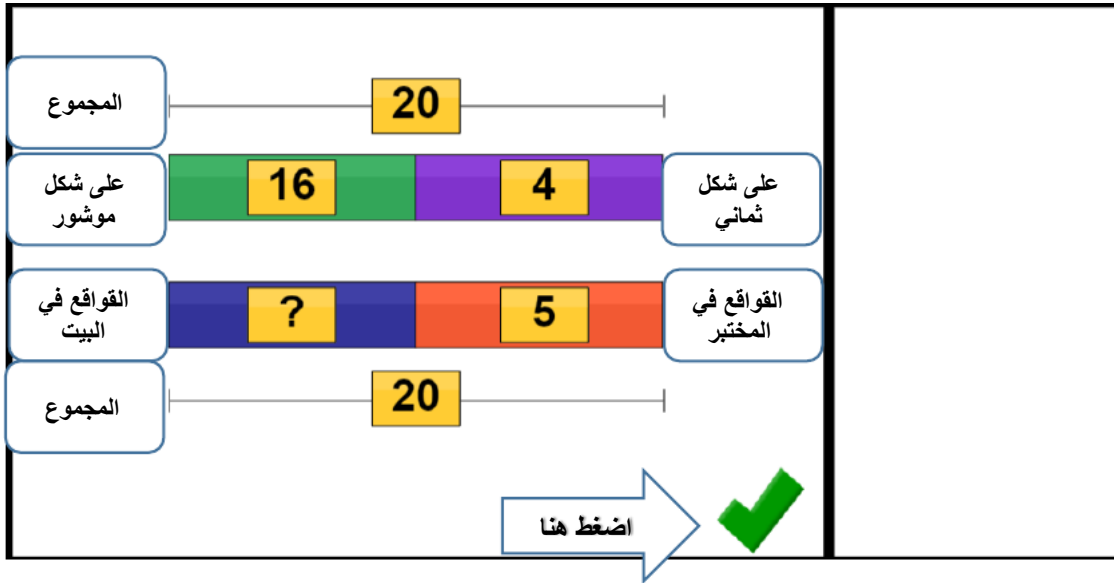
الآن ننتقل إلى الخطوة الثانية من السؤال:



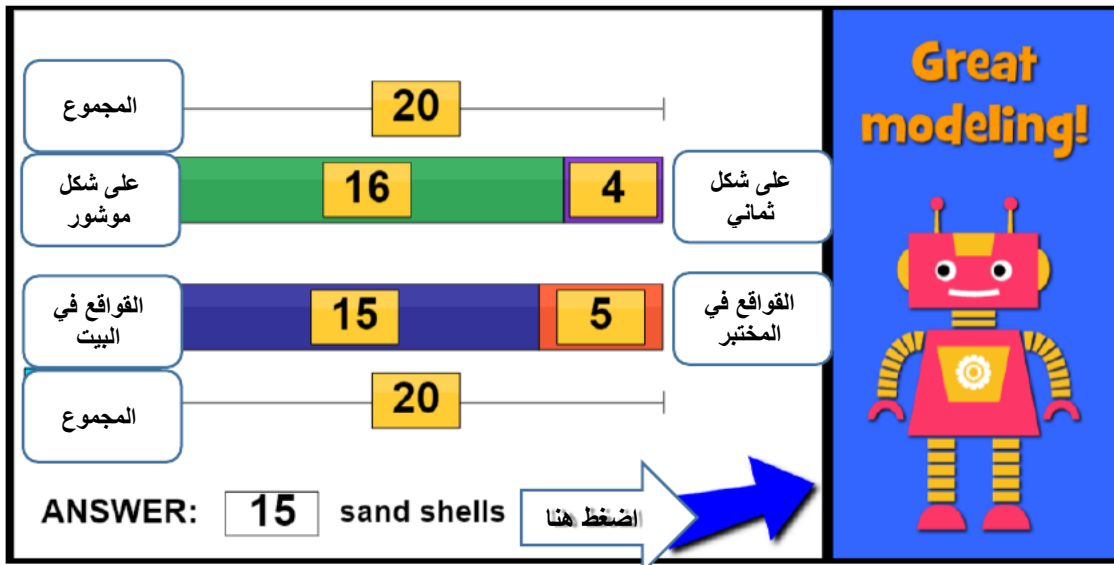
نضع كل أيقونة في مكانها المناسب ونقوم ببناء النموذج:



نضع القيم المعطاة:



اجمالي عدد القواقع = 20
إذا المتبقي = $20 - 5 = 15$



تمت الإجابة بشكل صحيح وبالضغط على السهم الأزرق ننتقل الى مسائل جديدة.