

المسألة الخامسة: (خطوتين):

وضع أحمد 9 حبات من الجزر في وعاء فأكل أصدقاؤه 7 حبات منها. ثم وضع 8 حبات أخرى من الجزر في الوعاء نفسه. كم يصبح عدد حبات الجزر في الوعاء؟

Label

Label

الجزر المتبقي

الجزر المأكول

مجموع الجزر

سؤال مخفي كم عدد حبات الجزر المتبقية؟

اضغط هنا

نضع كل أيقونة في المكان المناسب لها ونقوم ببناء النموذج:

مجموع الجزر

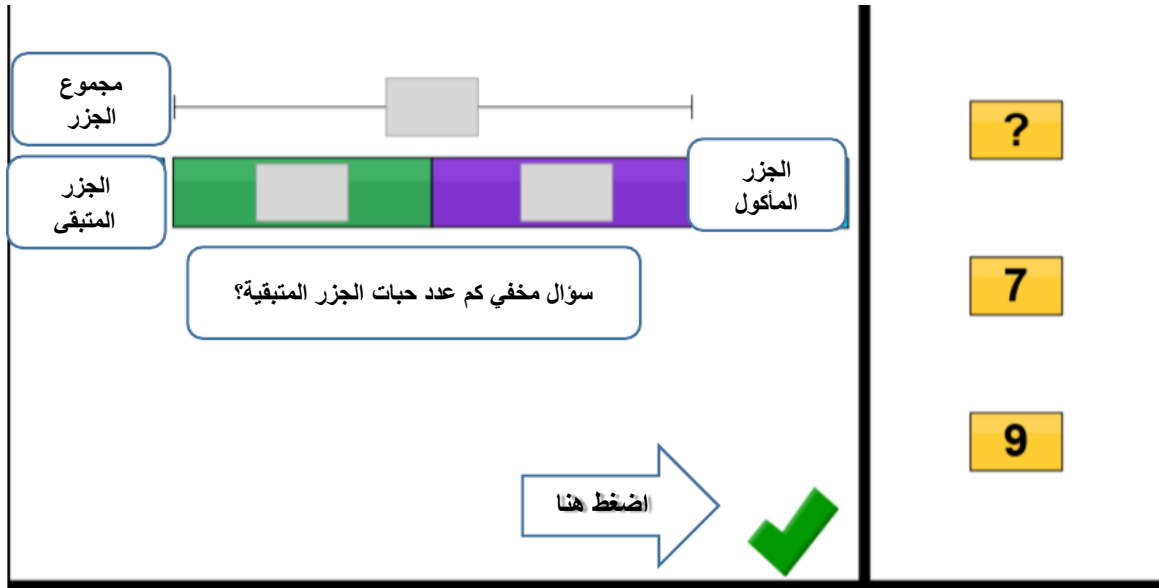
الجزر المتبقي

الجزر المأكول

سؤال مخفي كم عدد حبات الجزر المتبقية؟

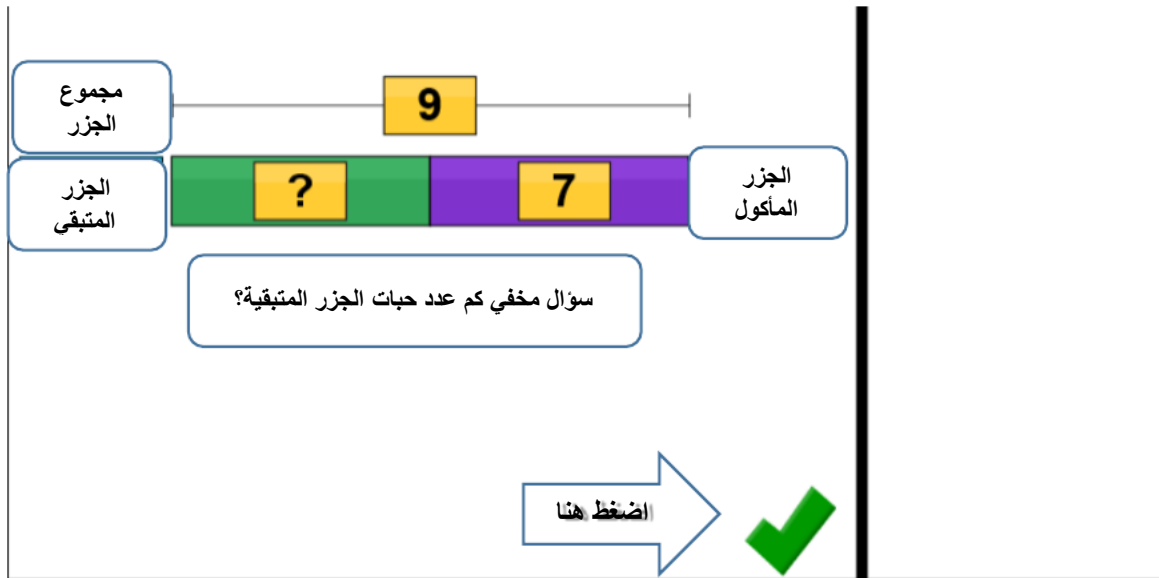
اضغط هنا

تظهر لدينا القيم المعطاة:



نضع القيم المعطاة في الايقونات المخصصة لها:

مجموع الجزر = ؟ عدد الجزر المأكول = 7 عدد الجزر في الوعاء في البداية = 9



الآن نضغط على الرقم الصحيح للإجابة:

$$2 = 7 - 9 = \text{مجموع الجزر}$$

مجموع الجزر

الجزر المتبقي

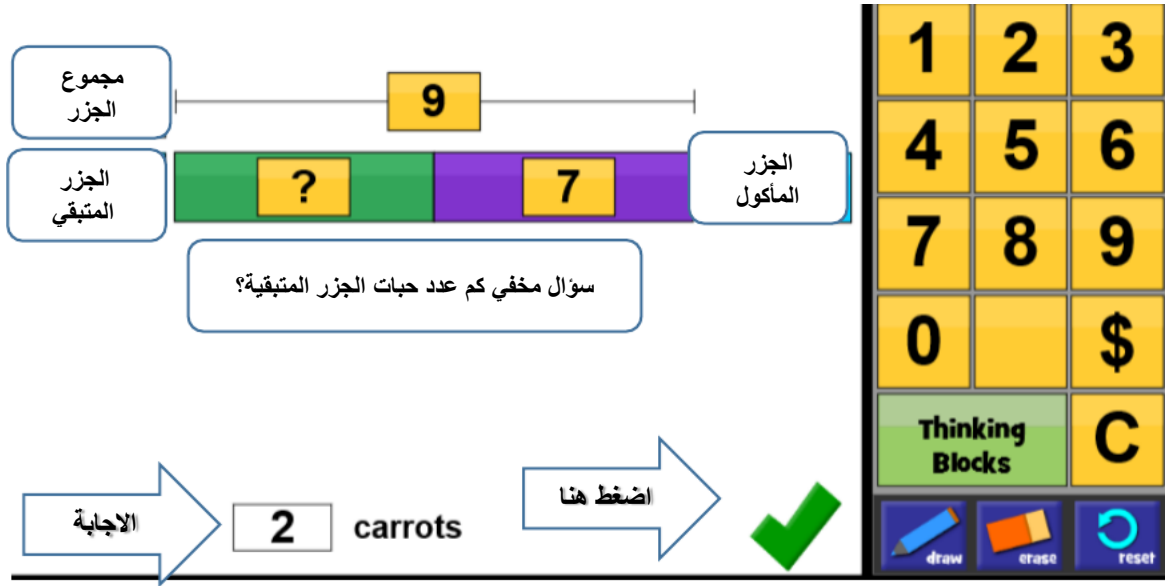
الجزر المأكل

سؤال مخفي كم عدد حبات الجزر المتبقية؟

الاجابة

2 carrots

اضغط هنا



بعد وضع الإجابة الصحيحة في الايقونة سوف ننتقل إلى الخطوة الثانية لحل المسألة:

مجموع الجزر

الجزر المتبقي

الجزر المأكل

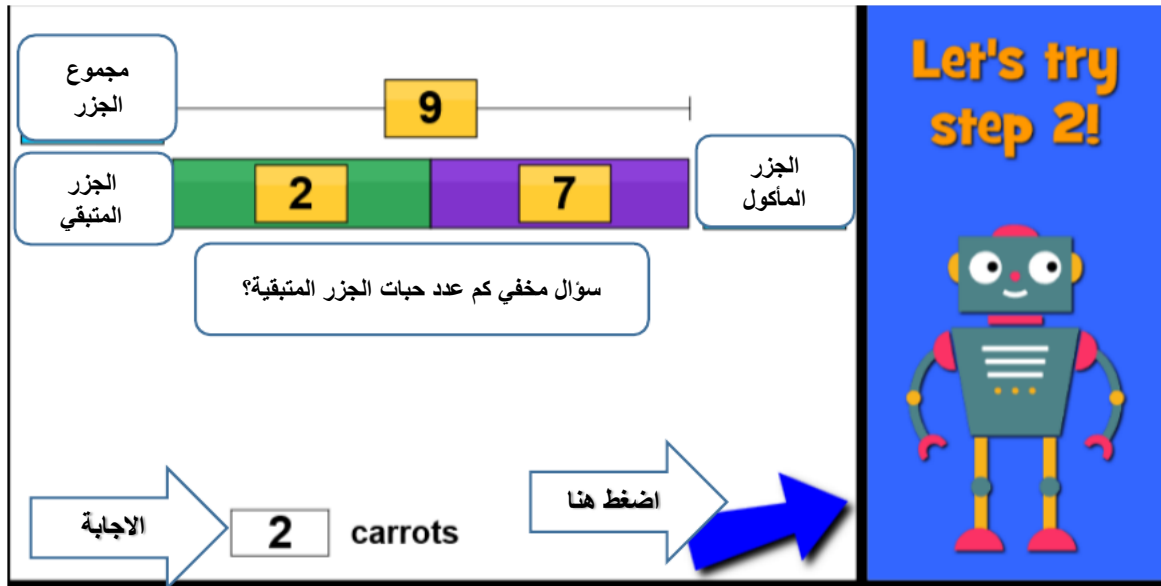
سؤال مخفي كم عدد حبات الجزر المتبقية؟

الاجابة

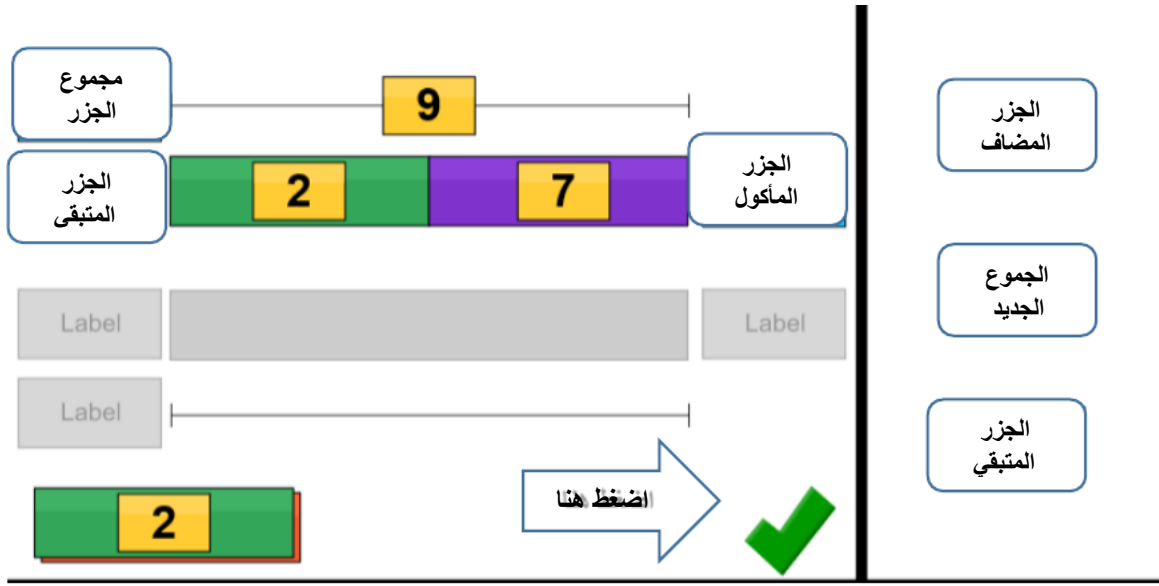
2 carrots

اضغط هنا

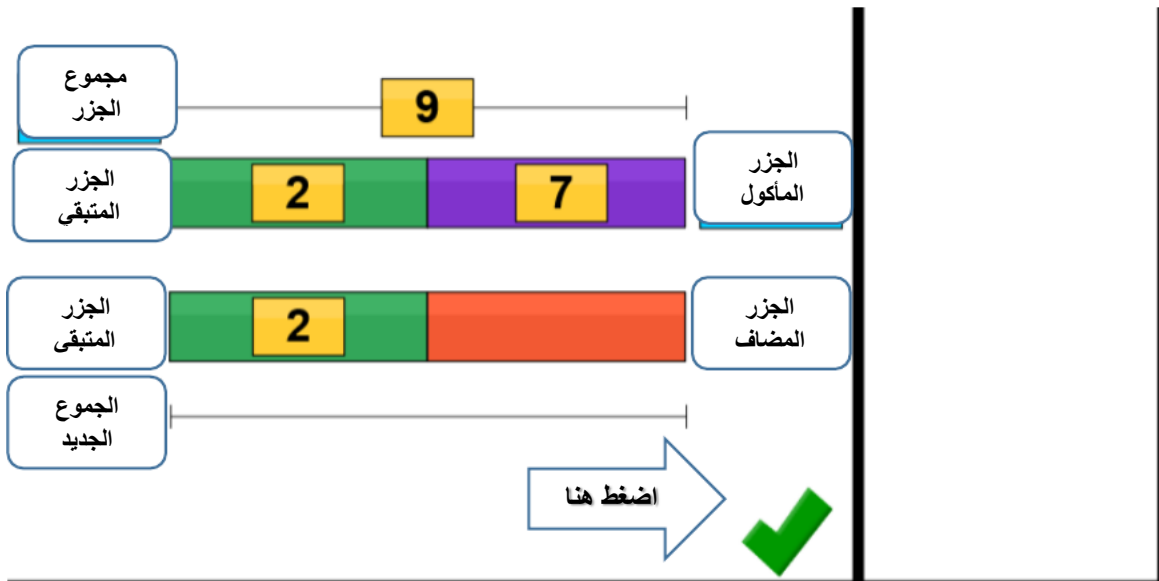
Let's try step 2!



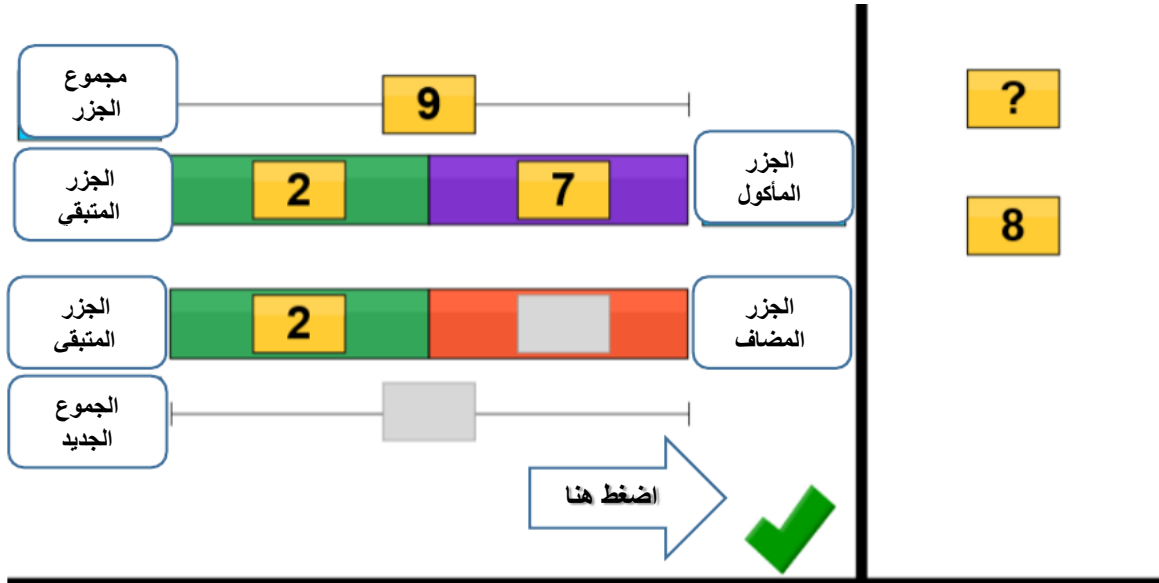
بعد الضغط على السهم الأزرق سوف ننتقل إلى الخطوة الثانية من المسألة:



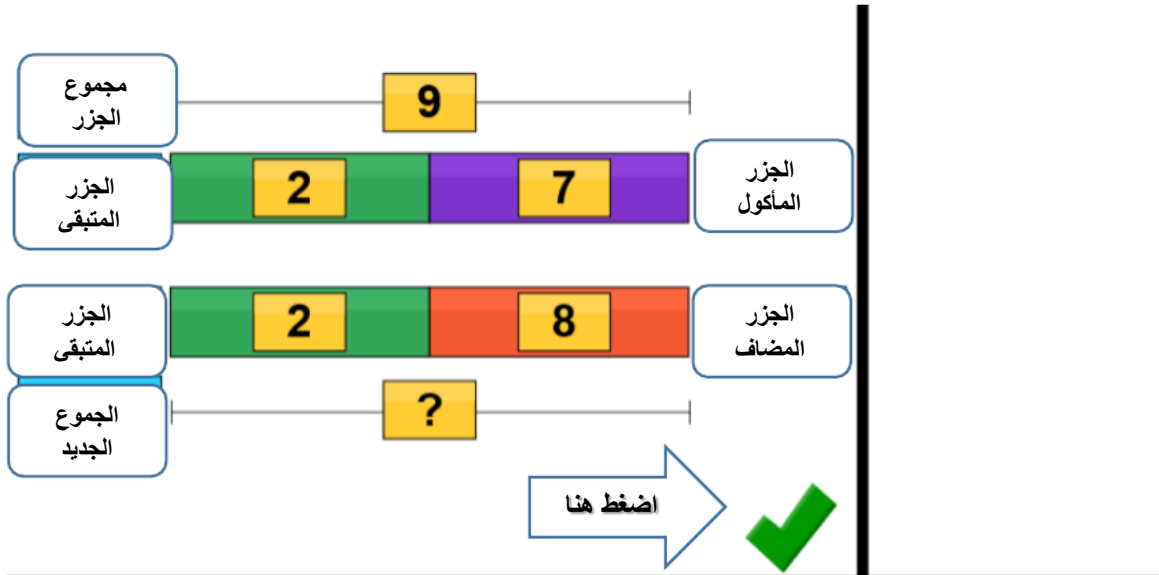
الآن نضع كل أيقونة في المكان المناسب لها ونقوم ببناء النموذج:



الآن نضع القيم المعطاة في الأيقونات المخصصة:



تم إضافة عدد 8 جزرات في الوعاء والمطلوب الآن هو مجموع عدد الجزر في الوعاء



المجموع الجديد لعدد الجزر في الوعاء $10 = 2 + 8 =$

نضع الإجابة في الايقونة المخصصة لها:

مجموع الجزر 9

الجزر المتبقي 2 7

الجزر المتبقي 2 8

الجزر المضاف

المجموع الجديد ?

الاجابة 10 carrots

اضغط هنا

1 2 3
4 5 6
7 8 9
0 \$
Thinking Blocks C
draw erase reset

نضغط على السهم الأخضر لنتحقق من الإجابة:

مجموع الجزر 9

الجزر المتبقي 2 7

الجزر المتبقي 2 8

الجزر المضاف

المجموع الجديد 10

الاجابة 10 carrots

اضغط هنا

Fantastic job!
robot

تمت الإجابة على السؤال بشكل صحيح ويمكن الضغط على السهم الأزرق لتوليد مسائل جديدة.