





المسألة العاشرة :

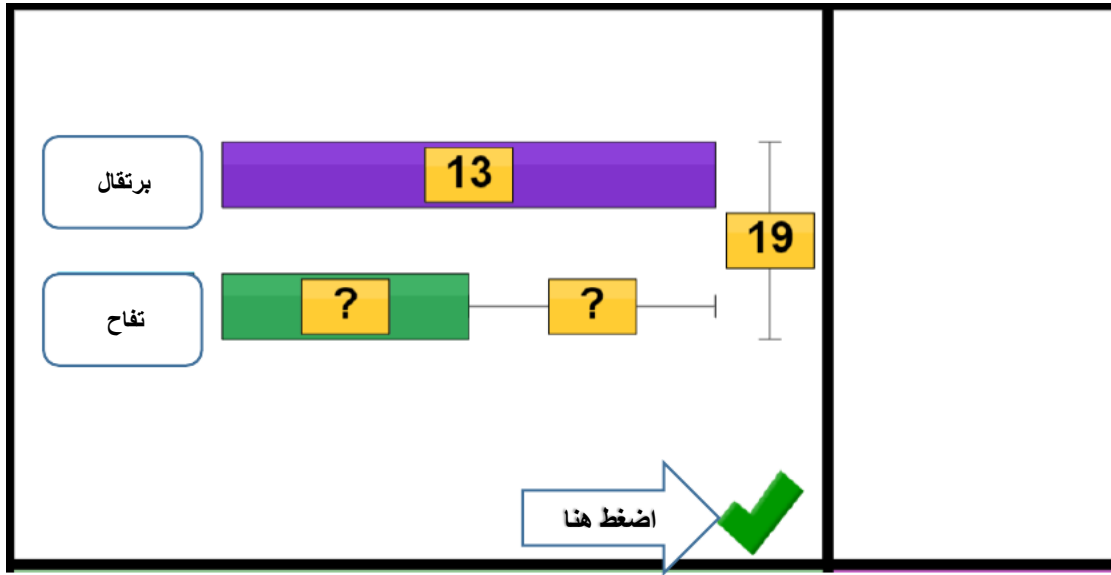
يبلغ وزن البرتقال والتفاح معًا 19 رطلاً، إذا كان وزن البرتقال 13 رطلاً،  
فكم رطلاً ينقص وزن التفاح عن وزن البرتقال؟

|   |  |        |
|---|--|--------|
| Label   |  | تفاح   |
| Label   |  | برتقال |
|  |  |        |

نضع كل أيقونة في المكان المناسب ونقوم ببناء النموذج:

|  |   |  |
|--|---|--|
| برتقال   |  |  |
| تفاح   |  |  |
|  |   |  |

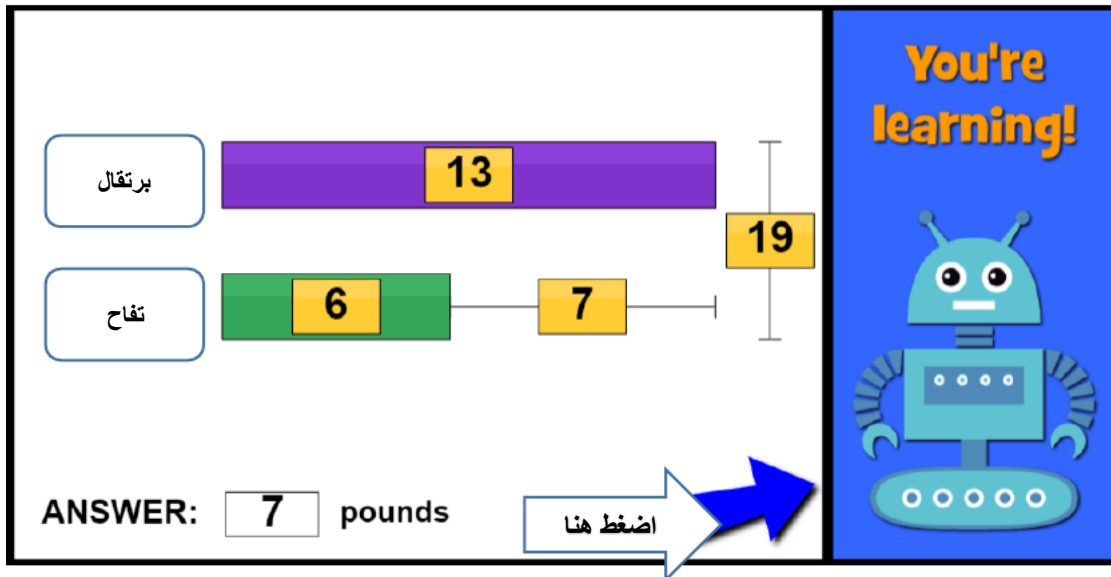
الآن نضع القيم المعطاة:



الوزن الكلي = 19 ووزن البرتقال = 13

إذا وزن التفاح =  $13 - 19 = 6$

أي أن الفرق بينهما =  $13 - 6 = 7$



تمت الإجابة بشكل صحيح وبالضغط على السهم الأزرق يمكن الانتقال لمسائل جديدة.