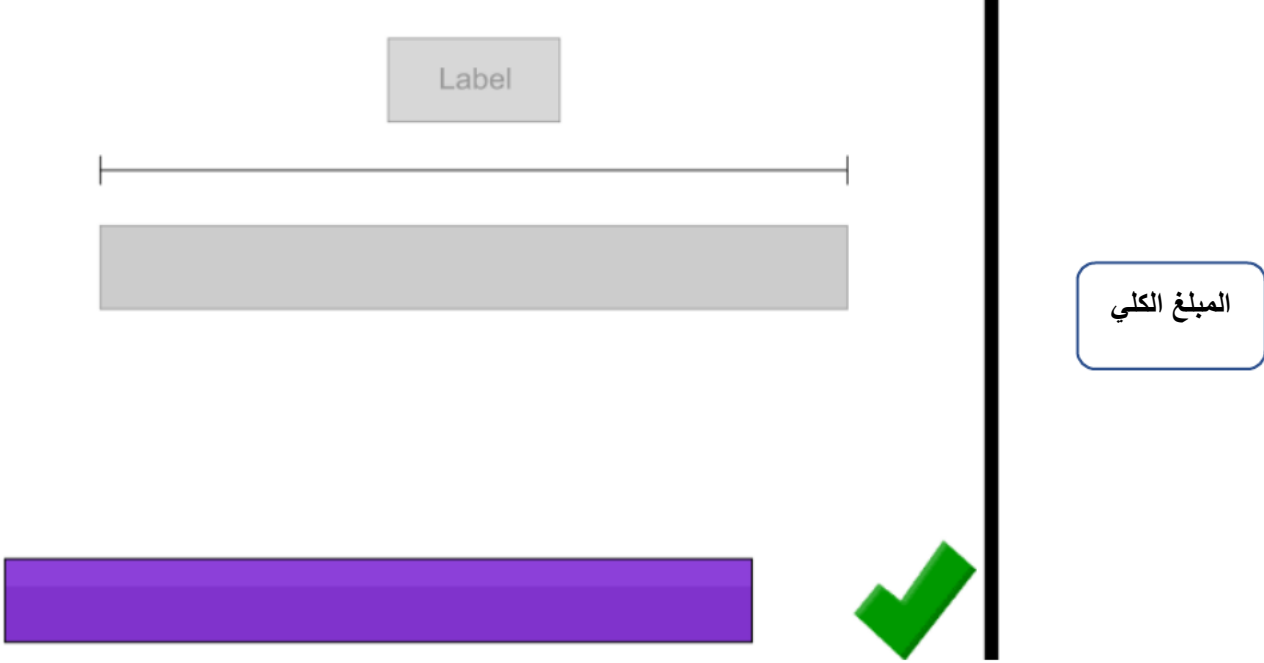


المسألة العاشرة : (إيجاد المجموع)

ذهبت فاطمة إلى المتجر وصرفت $\frac{2}{5}$ من أموالها على شراء طائرة ورقية، إذا كانت تكلفة الطائرة الورقية 6 ريالاً، فكم من المال كان لدى فاطمة في البداية؟



سنقوم ببناء النموذج، من خلال وضع العنوان في مكانه، واللوحة البنفسجية في مكانها المناسب ثم نضغط علامة (✓) باللون الأخضر.



ثم يظهر الشكل التالي:



وباستخدام الأيقونة البرتقالية ، سنقسم اللوحة البنفسجية إلى خمسة أجزاء ، حتى نستطيع

أن نحدد الكسر $\frac{2}{5}$.

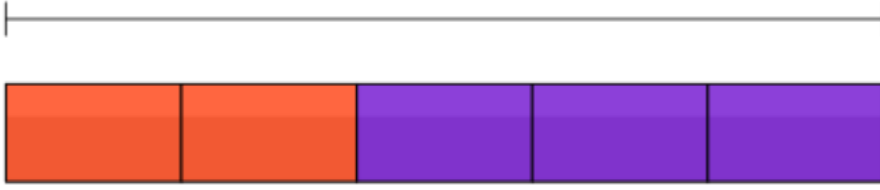


ثم اضغط هنا



ثم نقوم بتحديد الكسر $\frac{2}{5}$ باللون البرتقالي من جهة اليسار (وهو عبارة عن جزأين)

المبلغ الكلي

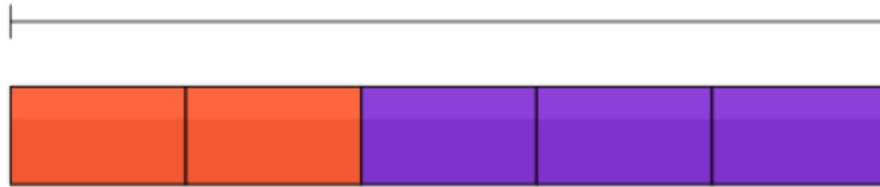


ثم اضغط هنا



وبعد الضغط على علامة (✓) سيظهر عنوان، ويُطلب وضعه في المكان الصحيح:

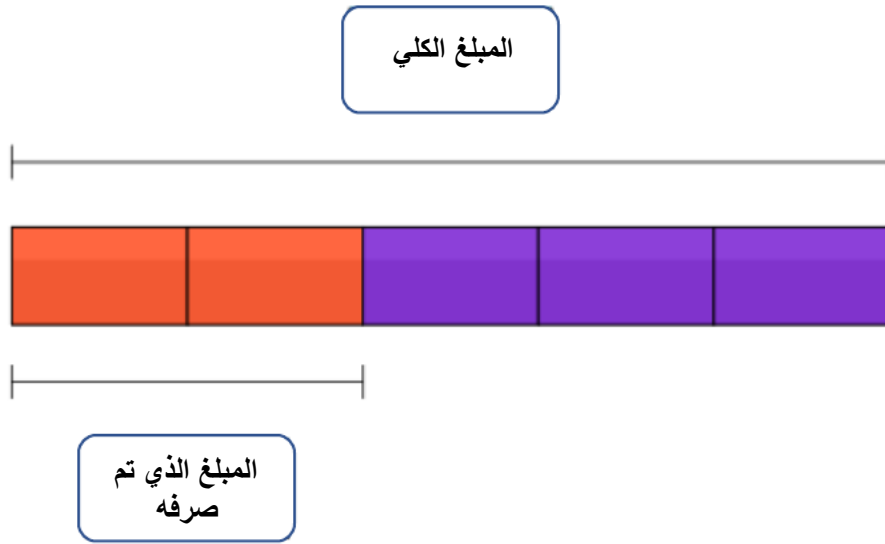
المبلغ الكلي



Label

ثم اضغط هنا





وبعد الضغط على علامة (✓) يظهر الشكل التالي، وفيه يُطلب وضع الأرقام في مكانها المناسب (حيث لدينا المبلغ الكلي، والنقود التي تم صرفها)

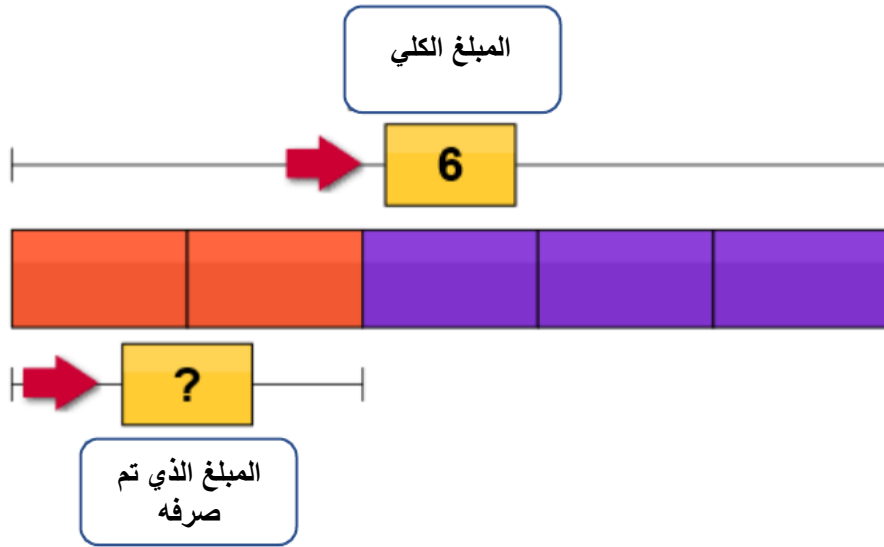
المبلغ الكلي

المبلغ الذي تم صرفه

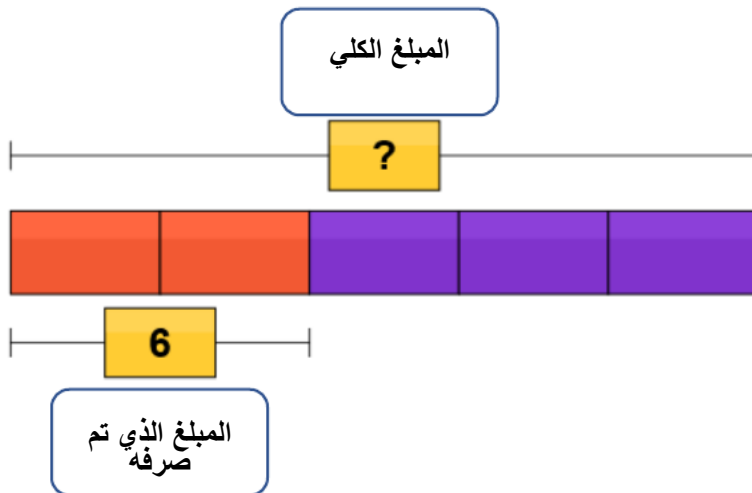
6

?

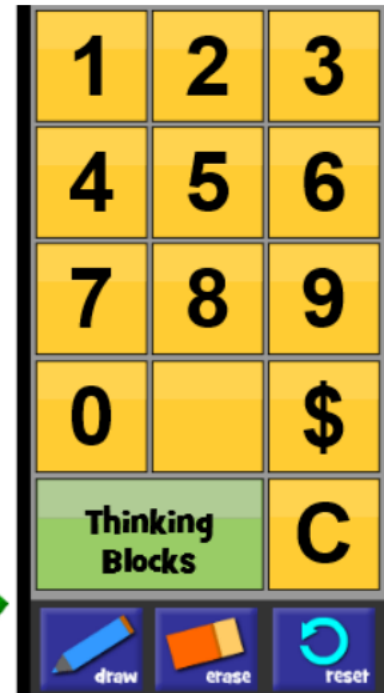
لو افترضنا أن الطالب أخطأ في وضع الأرقام فستظهر الأسهم الحمراء للدلالة على وجود خطأ

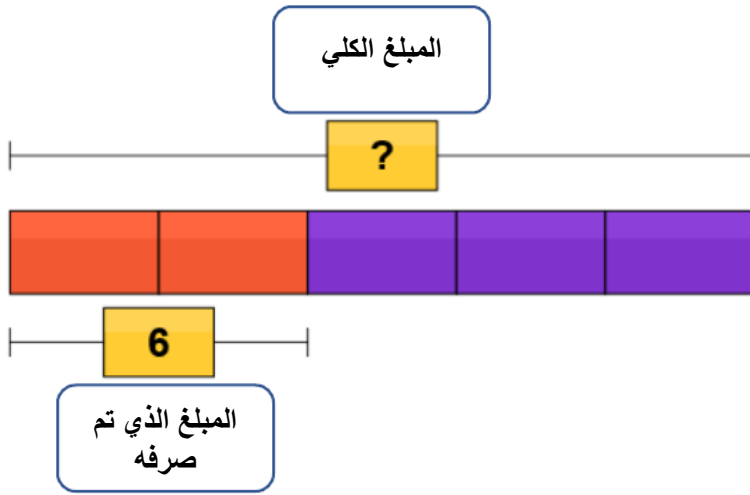


سنقوم بوضع الأرقام في مكانها المناسب، ونضغط علامة (✓) فتظهر نافذة الأرقام لكتابة الإجابة الصحيحة:

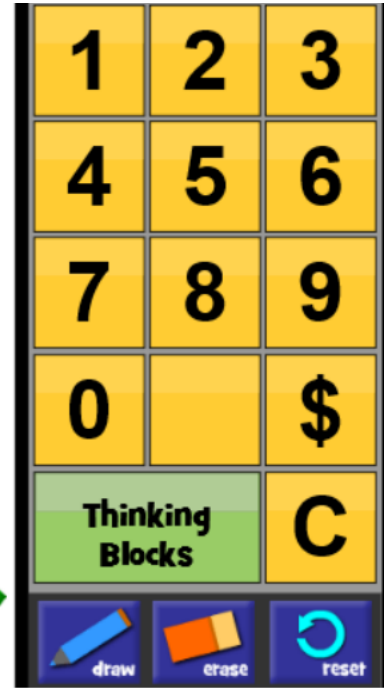


ANSWER:

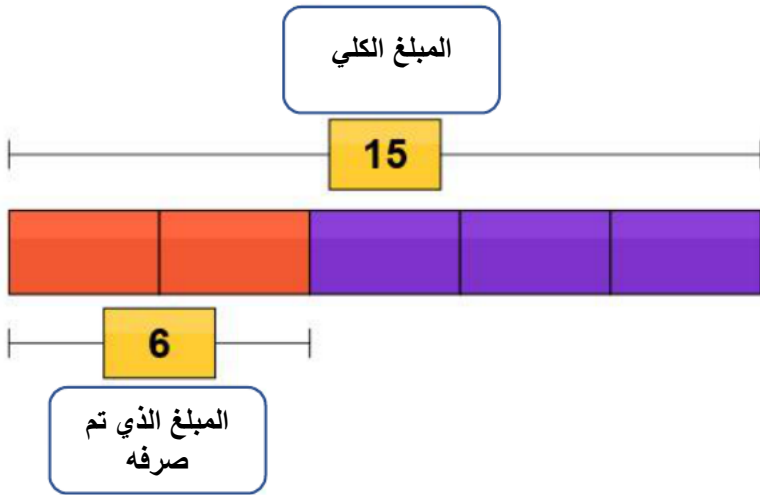




ANSWER:



بعد كتابة الجواب الصحيح نضغط على علامة (✓)، فيظهر التعزيز وتنتهي خطوات الحل .



ANSWER:



You solved it!

