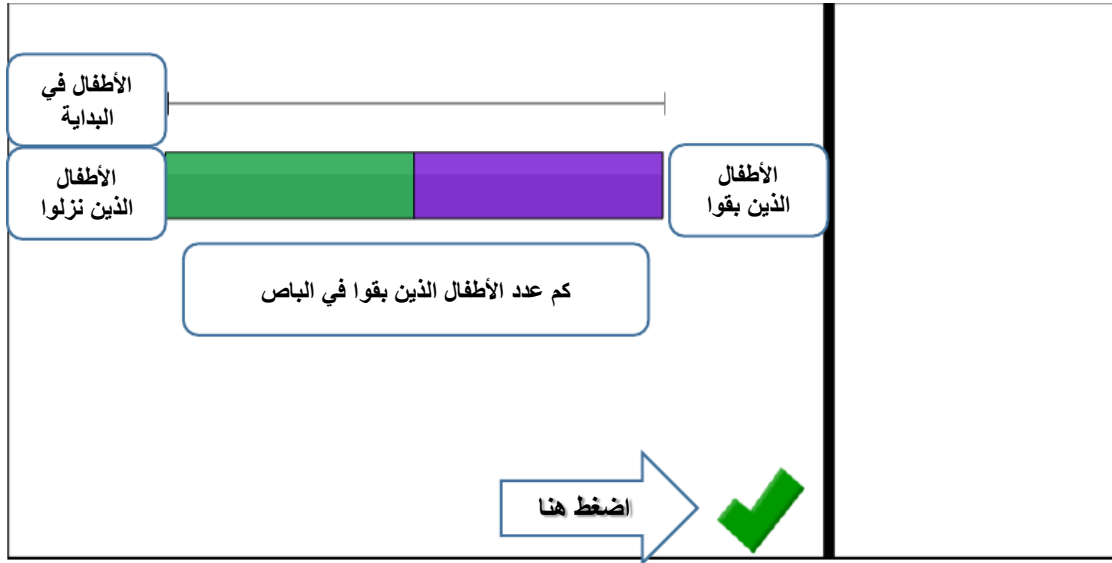


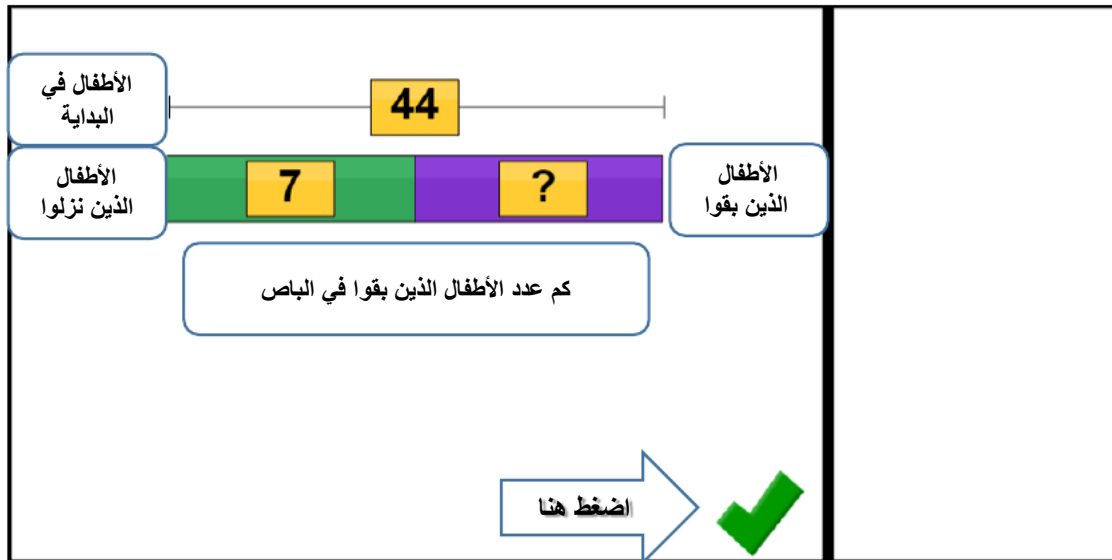
المسألة التاسعة :

في باص المدرسة 44 طفلاً ، إذا نزل في المحطة الأولى 7 أطفال ، ثم صعد إلى الباص في المحطة الثانية مجموعة من الأطفال بحيث أصبح مجموع الأطفال في الباص 49 طفلاً ، فكم عدد الأطفال الذين صعدوا في المحطة الثانية؟

نضع الايقونات في المكان المناسب ونقوم ببناء النموذج:



نضع القيم المعطاة:



عدد الأطفال الذين بقوا في الباص =  $44 - 7 = 37$  طفلاً

الأطفال في البداية

الأطفال الذين نزلوا


الأطفال الذين بقوا

كم عدد الأطفال الذين بقوا في الباص

ANSWER:  children

اضغط هنا

## Let's try step 2!



تمت الإجابة على الخطوة الأولى بشكل صحيح ننتقل الآن إلى الخطوة الثانية:

الأطفال في البداية

الأطفال الذين نزلوا

الأطفال الذين بقوا

Label

Label

Label

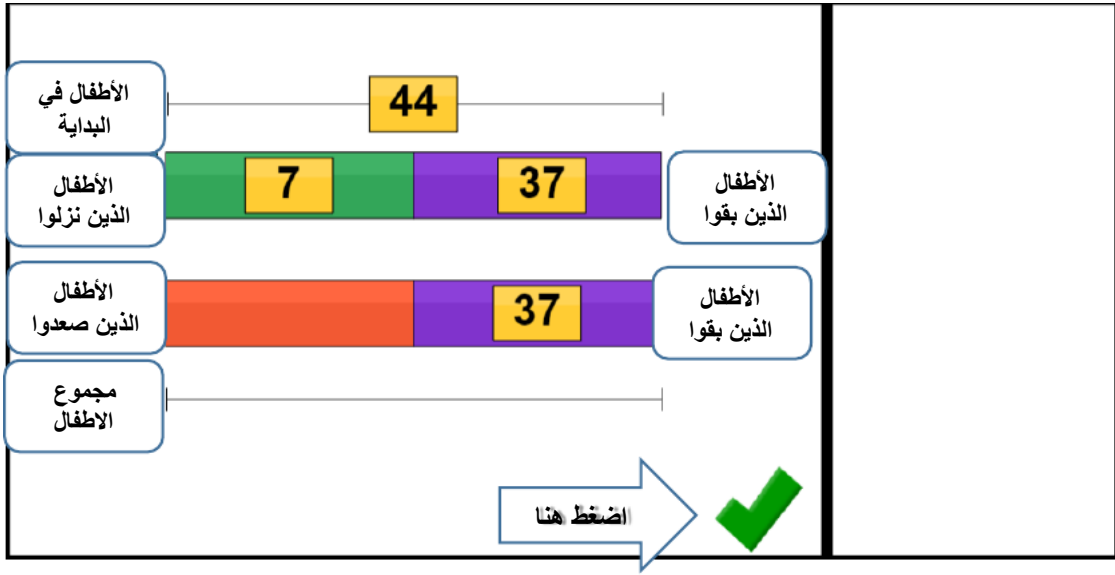
اضغط هنا

الأطفال الذين صعّدوا

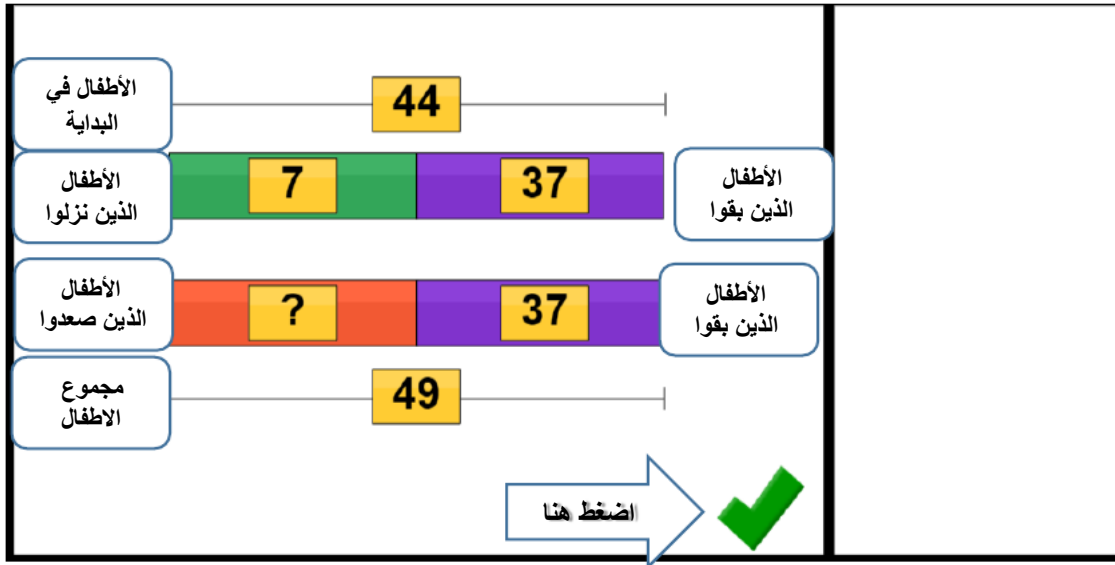
مجموع الأطفال

الأطفال الذين بقوا

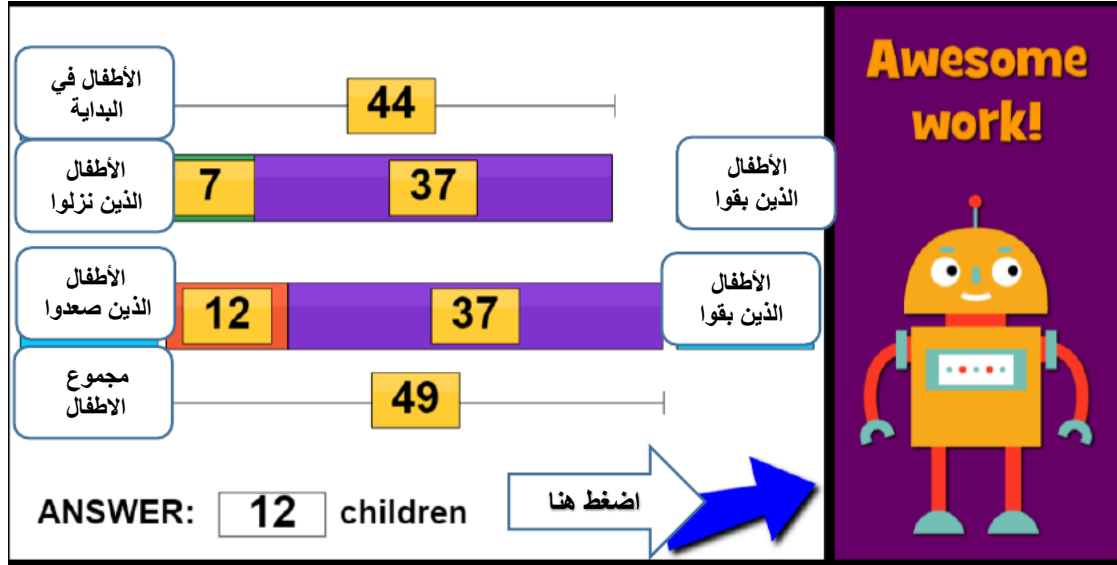
نضع كل أيقونة في المكان المناسب ونقوم ببناء النموذج:



نضع القيم المعطاة:



عدد الأطفال الذين سعدوا للباص =  $49 - 37 = 12$  طفلاً



تمت الإجابة بشكل صحيح وبالضغط على السهم الأزرق ننتقل لمسائل جديدة.