

المسألة الثامنة: (نماذج عشوائية).

لدى محمد مجموعة من النقود في محفظته، ووجد 16 ريالاً في الدرج، إذا اشترى محمد ملصقاً بقيمة 21 ريالاً وتبقى معه 26 ريالاً، فكم من النقود كان مع محمد في البداية؟

السؤال مخفي كم عدد النقود المتبقية؟

اضغط هنا

النقود التي وجدها

مجموع النقود

النقود في البداية

الآن نقوم بوضع كل أيقونة في مكانها المناسب ونقوم ببناء النموذج كما في الشكل التالي:

السؤال مخفي كم عدد النقود المتبقية؟

اضغط هنا

مجموع النقود

النقود التي وجدها

النقود في البداية

الآن نحدد القيم المعطاة في المسألة:

عدد النقود في البداية = ؟ عدد النقود التي وجدها = 16 مجموع النقود = ؟

مجموع النقود

النقود التي وجدها

النقود في البداية

سؤال مخفي كم عدد النقود المتبقية؟

اضغط هنا

\$16

?

?

نضع القيم المعطاة في الايقونات المحددة لها:

مجموع النقود

النقود التي وجدها

النقود في البداية

سؤال مخفي كم عدد النقود المتبقية؟

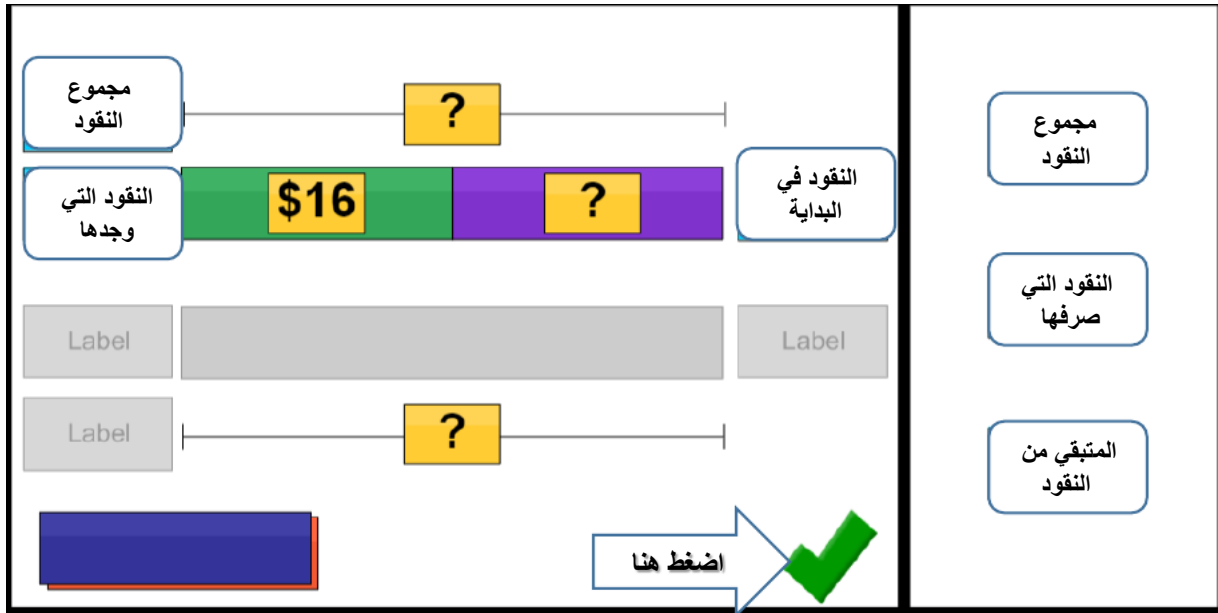
اضغط هنا

?

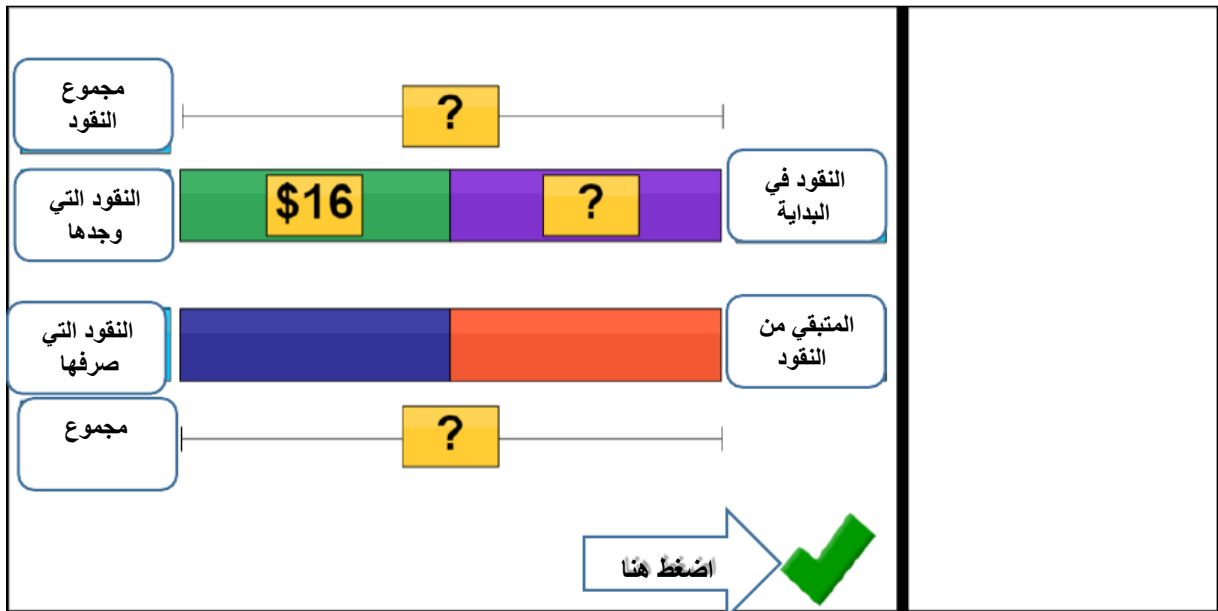
\$16

?

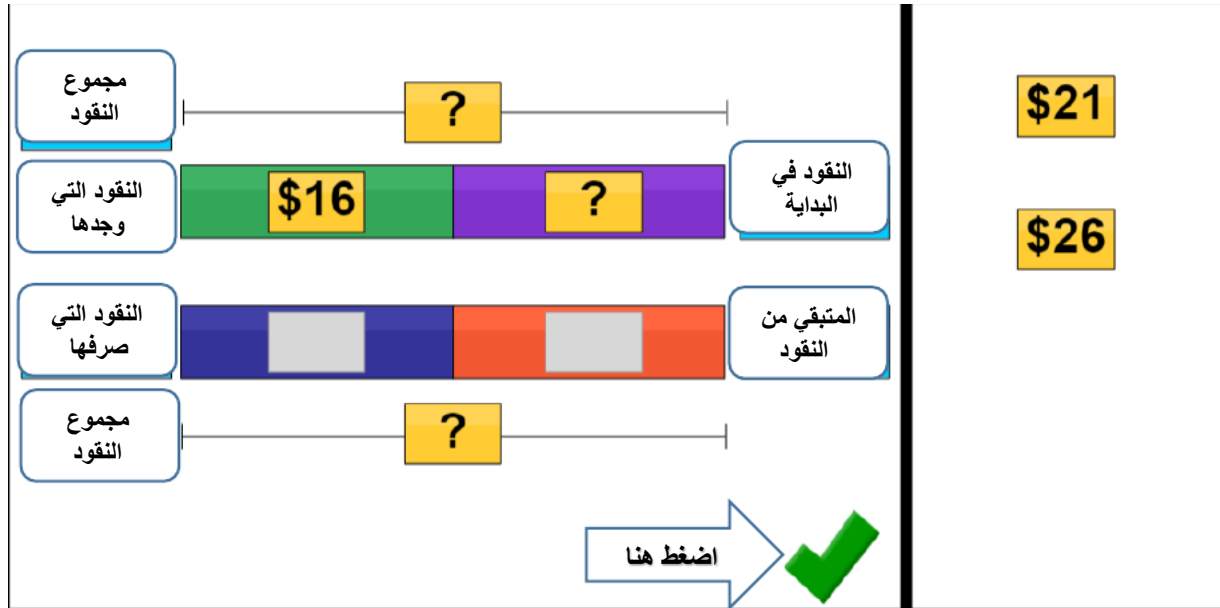
ننتقل الآن للخطوة الثانية من السؤال:



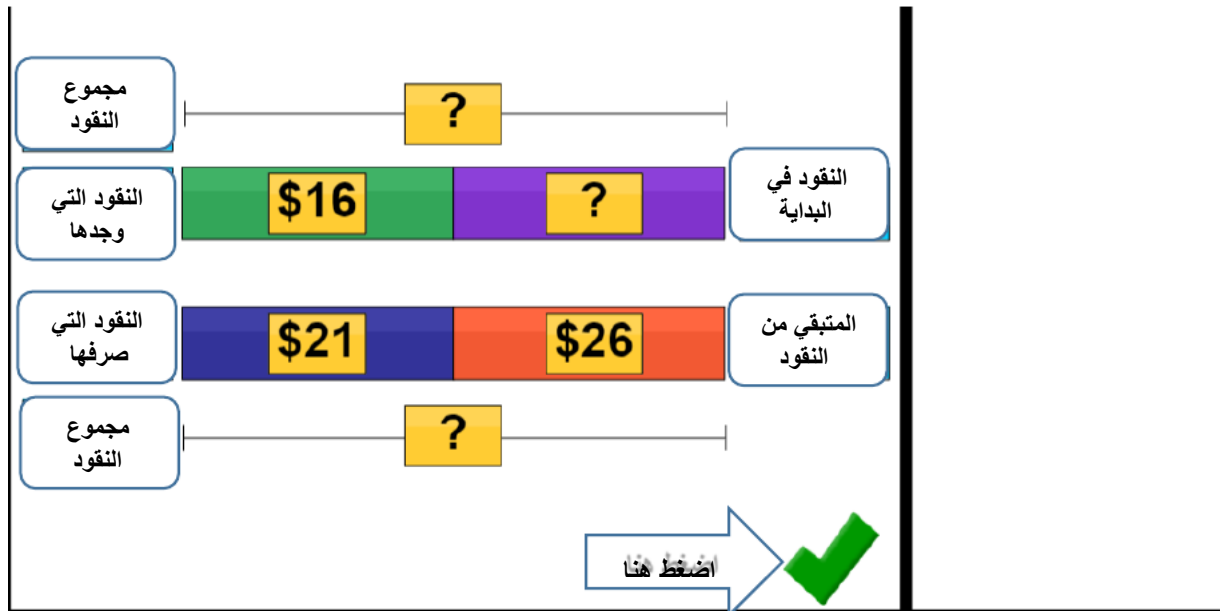
نضع كل أيقونة في المكان المناسب لها ونقوم ببناء النموذج كما في الشكل التالي:



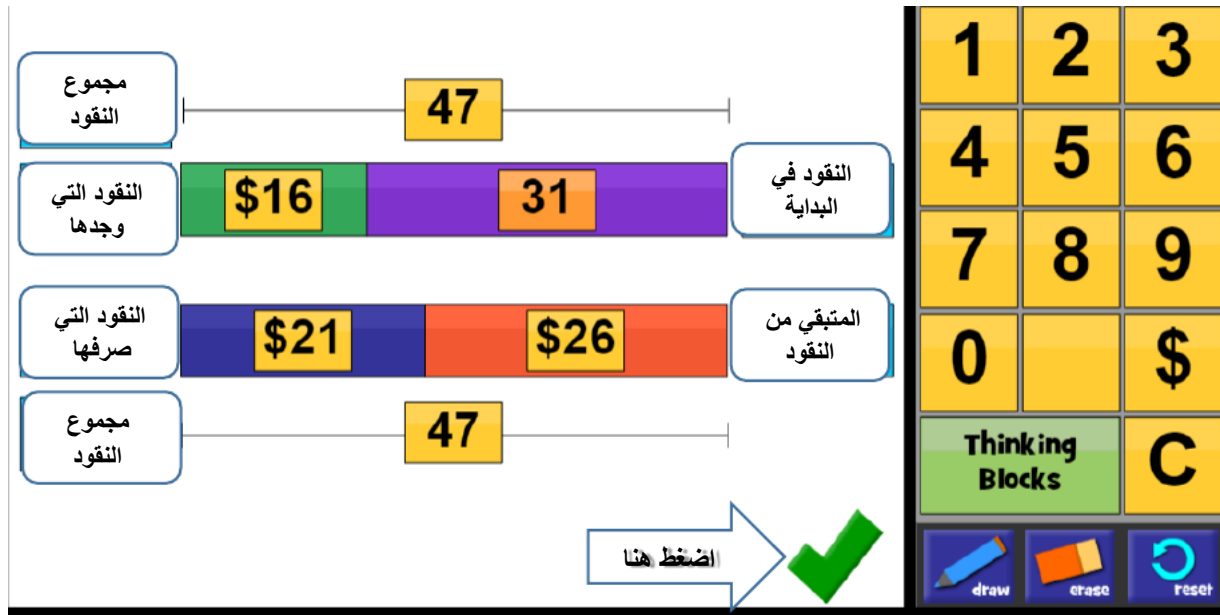
نضع كل قيمة في المكان المخصص لها:



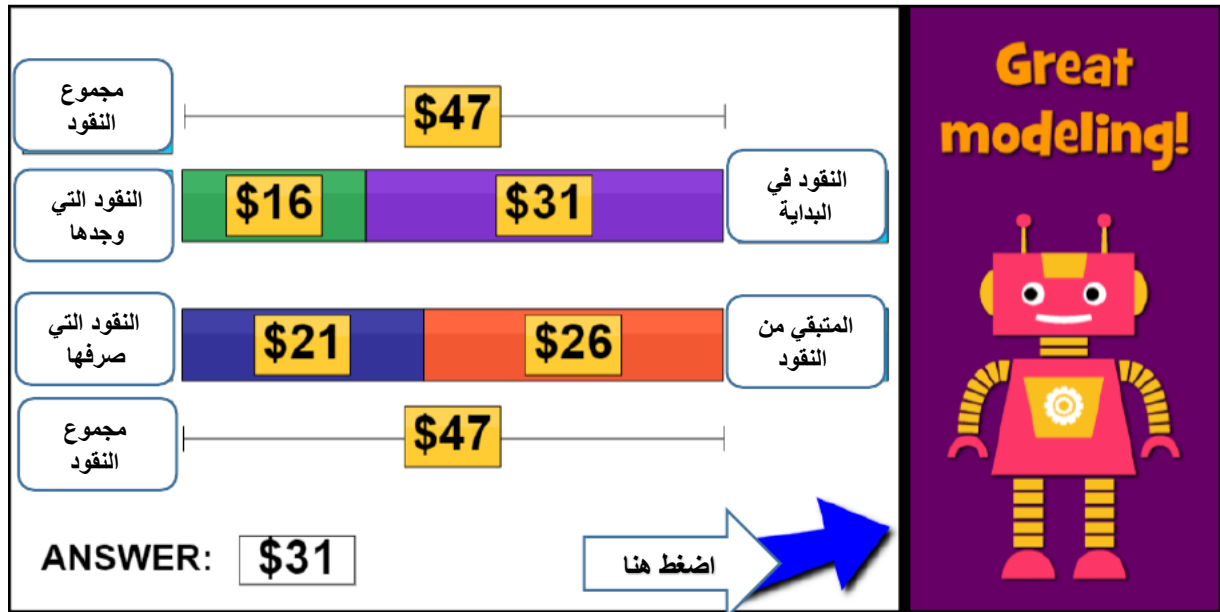
النقود التي صرفها = 21 ، النقود المتبقية معه = 26



مجموع النقود = $26 + 21 = 47$ ريالاً
عد النقود في البداية = $47 - 16 = 31$ ريالاً



نضع الإجابة الصحيحة في الايقونة الخاصة بها



تمت الإجابة بشكل صحيح على المسألة وبالضغط على السهم الأزرق ننتقل لمسائل جديدة.