





المسألة الرابعة: (المقارنة خطوتين):

عدنان الفرق بينهما يساوي 13 ، إذا كان العدد الأكبر هو 28. ما هو مجموع العددين؟


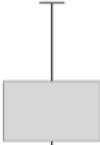

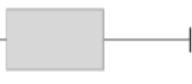
Label		العدد الأكبر
Label		العدد الأصغر
		


نضع كل أيقونة في المكان المناسب لها ونقوم ببناء النموذج كم في الشكل التالي:

العدد الأكبر	
العدد الأصغر	
	




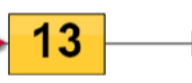
الآن نضع القيم المعطاة:


العدد الأكبر = 28 ، الفرق بين العددين = 13 ، العدد الأصغر = ؟

العدد الأكبر			13
العدد الأصغر			?
			?
			28

اضغط هنا 

نضع القيم المعطاة في الأيقونات المخصصة لها:

العدد الأكبر		
العدد الأصغر		

اضغط هنا 

الآن نحل المسألة جبرياً:

$$15 = 13 - 28 = 13 - \text{العدد الأكبر} = \text{العدد الأصغر}$$

العدد الأكبر 28

العدد الأصغر ?

13

?

Thinking Blocks C

draw erase reset

اضغط هنا

$$43 = 13 + 28 = \text{مجموع العددين}$$

العدد الأكبر 28

العدد الأصغر 15

13

43

Thinking Blocks C

draw erase reset

اضغط هنا

تمت الإجابة على المسألة بشكل صحيح

العدد الأكبر

28

العدد الأصغر

15


13

43

ANSWER: 43

اضغط هنا

You're learning!



وبالضغط على السهم الأزرق يمكن توليد مسائل جديدة.