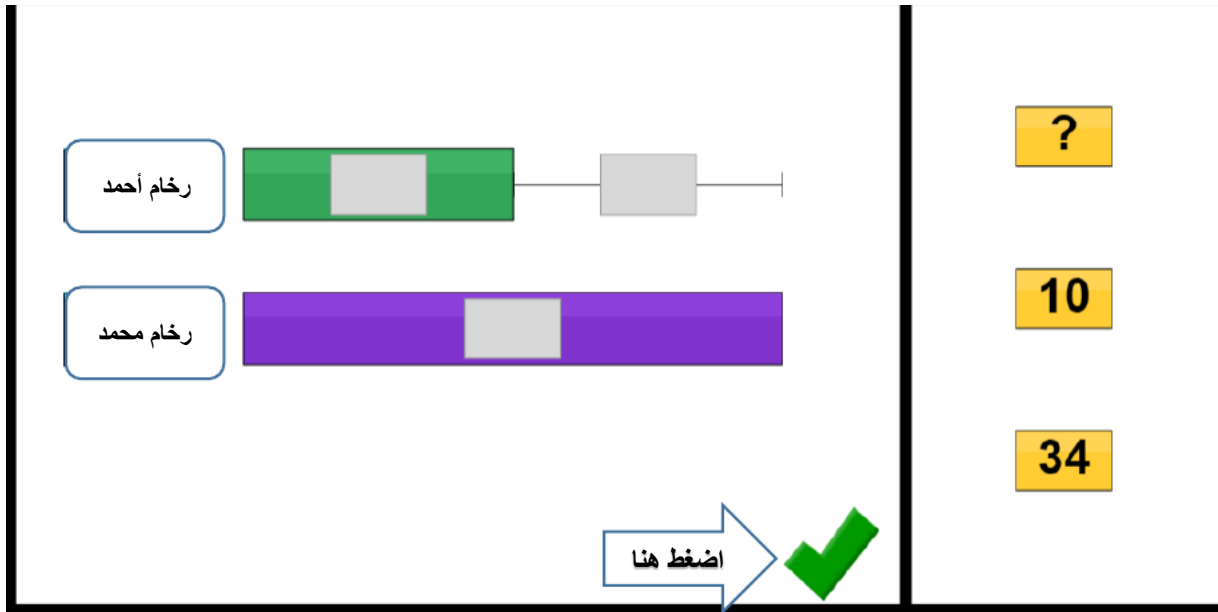


المسألة الثالثة: (المقارنة) خطوة واحدة:

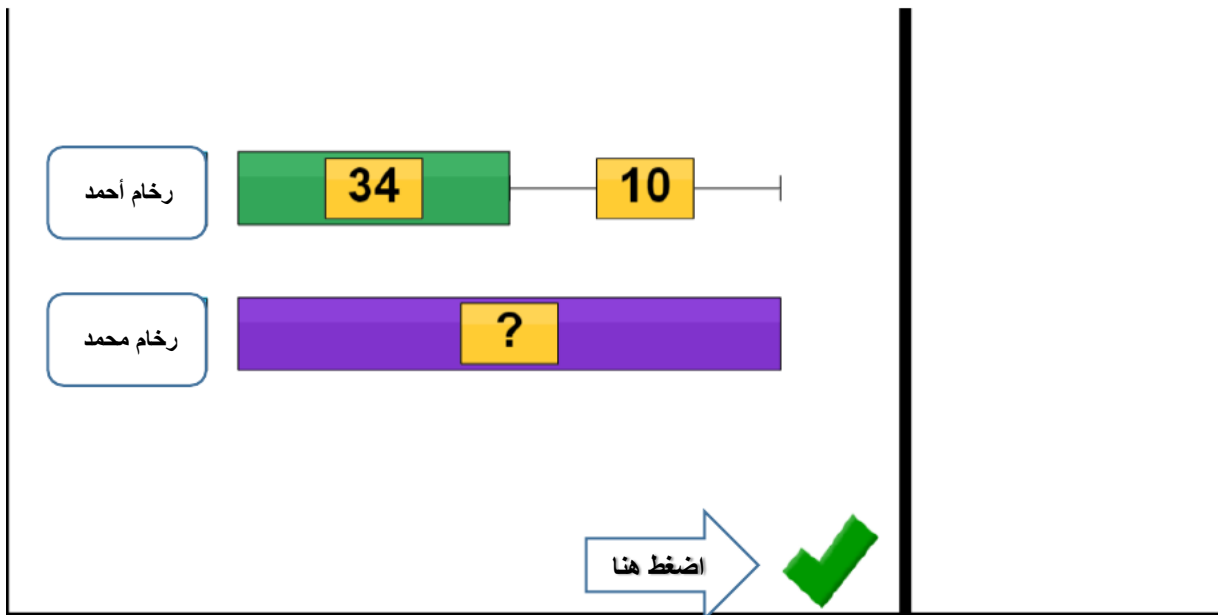
لدى أحمد 10 قطع من الرخام أقل مما لدى محمد. إذا كان لدى أحمد 34 قطعة من الرخام، فكم عدد قطع الرخام التي يملكها محمد؟

نضع كل أيقونة في المكان المناسب لها ونقوم ببناء النموذج كما في الشكل التالي:

الآن نضع القيم المعطاة:



نضع القيم المعطاة في الأيقونات المخصصة لها



نقوم بحل المسألة

عدد قطع الرخام مع محمد = عدد قطع الرخام مع أحمد + 10 = 34 + 10 = 44 قطة رخام.

رخام أحمد

رخام محمد

الإجابة

marbles

اضغط هنا

1 2 3

4 5 6

7 8 9

0 \$

Thinking Blocks C

draw erase reset

نضغط الأرقام التي تمثل الإجابة الصحيحة:

رخام أحمد

رخام محمد

الإجابة

44 marbles

اضغط هنا

1 2 3

4 5 6

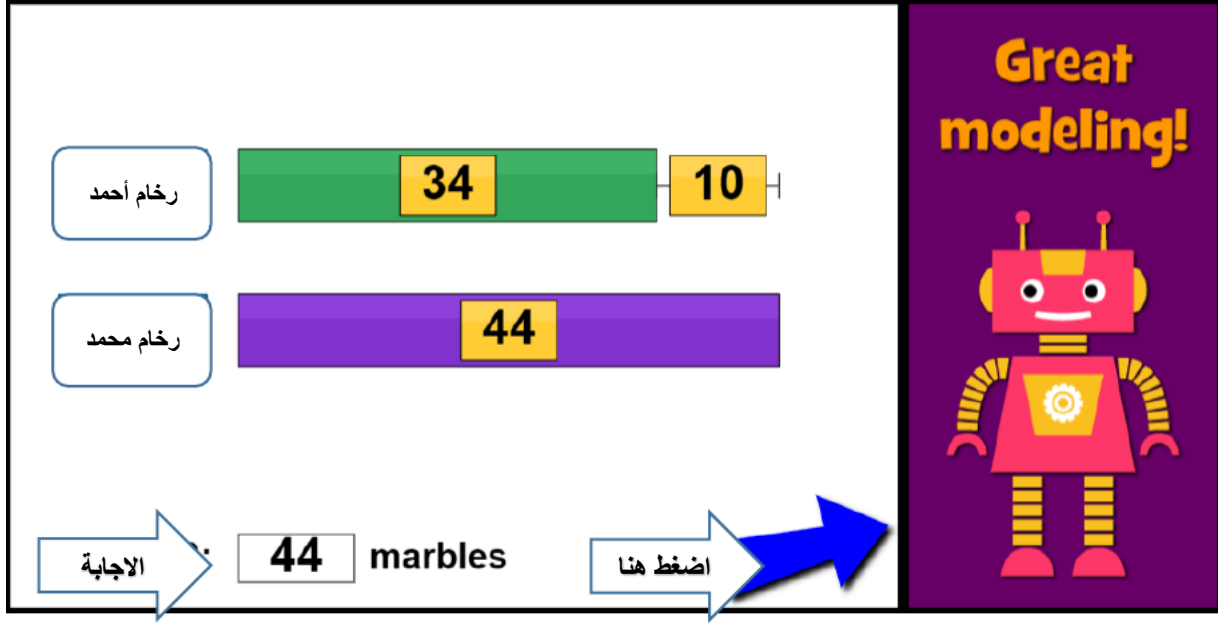
7 8 9

0 \$

Thinking Blocks C

draw erase reset

تمت الإجابة على المسألة بشكل صحيح:



نضغط السهم الأزرق لتولدي مسائل جديدة.